

Вариант 1

Часть 1

Ответом к заданиям 1-22 является одна цифра, которая соответствует номеру правильного ответа. Запишите эту цифру в поле ответа в тексте работы, а затем перенесите в БЛАНК ОТВЕТОВ № 1 справа от номера соответствующего задания, начиная с первой клеточки

1) Какое из перечисленных событий относится к XI в.?

- 1) Съезд князей в Любече
- 2) объединение Киева и Новгорода под властью князя Олега
- 3) принятие христианства
- 4) создание «Повести временных лет»

Ответ:

2) В первой четверти XIV в. московские князья вели борьбу за лидерство в Северо-Восточной Руси с

- 1) Новгородом
- 2) Рязанью
- 3) Тверью
- 4) Смоленском

Ответ:

3) Укажите военные победы, благодаря которым удалось предотвратить захват западными завоевателями русских земель

- 1) битва на реке Неве и Ледовое побоище
- 2) Грюнвальдская битва и битва на реке Шелони
- 3) битва на реке Альте и битва на реке Калке
- 4) битва на реке Воже и Куликовская битва

Ответ:

4) Прочтите отрывок из сочинения современного историка и укажите документ, о котором идёт речь.

«К важнейшим в законодательном акте относятся главы, определяющие сословную структуру общества. Глава XI “Суд о крестьянах” удовлетворила требование дворян о праве на бессрочный сыск беглых. Тем самым отменялись урочные лета и крестьяне с их потомством становились навечно собственностью помещиков, дворцового ведомства и духовных владельцев».

- 1) «Русская Правда»
- 2) Судебник Ивана III
- 3) Судебник Ивана IV
- 4) Соборное уложение

Ответ:

5) Какое из перечисленных событий революции 1905-1907 гг. произошло раньше остальных

- 1) принятие манифеста 17 октября
- 2) Московское вооруженное восстание
- 3) роспуск II Государственной думы
- 4) восстание на броненосце «Князь Потёмкин-Таврический»

Ответ:

6 III отделение императорской канцелярии было создано в целях

- 1) создания единого свода законов
- 2) разработки проектов отмены крепостного права
- 3) усиления полицейского контроля над обществом
- 4) улучшения положения государственных крестьян

Ответ:

7 Что явилось одной из причин начала «эпохи дворцовых переворотов» в XVIII в.?

- 1) новое законодательство о престолонаследии Петра I
- 2) губернская реформа Петра I
- 3) усиление влияния Э. Бирона при дворе
- 4) попытка ограничения власти Анны Иоанновны «верховниками»

Ответ:

8 Прочтите отрывок из закона и укажите, в годы правления какого императора он появился.

«...12) Выдача заработной платы рабочим должна производиться не реже одного раза в месяц, если наём заключён на срок более месяца, и не реже двух раз в месяц — при найме на срок неопределённый. Счётам с рабочими ведётся особая книга.

13) Рабочий, не получивший в срок причитающейся ему платы, имеет право требовать судебным порядком расторжения заключённого с ним договора».

- | | |
|----------------|------------------|
| 1) Александр I | 3) Александр II |
| 2) Николай I | 4) Александр III |

Ответ:

9 Свою подпись под договором о создании «Священного союза» поставил

- | | |
|-----------------|--------------|
| 1) Александр I | 3) Николай I |
| 2) Александр II | 4) Павел I |

Ответ:

10 Кто из перечисленных лиц имел отношение к присоединению Западной Сибири?

- 1) Афанасий Никитин
- 2) Ермак
- 3) Андрей Курбский
- 4) Семен Дежнев

Ответ:

16) Какое из перечисленных событий произошло в 1950-е гг.?

- 1) отставка Н.С. Хрущёва
- 2) принятие Конституции СССР
- 3) I Съезд народных депутатов СССР
- 4) Запуск первого искусственного спутника Земли

Ответ:

17) Что свидетельствовало об окончании «холодной войны» в 1990-е гг.?

- 1) вывод из Восточной части Германии Западной группы войск
- 2) образование Европейского союза
- 3) развитие практики распространения в мире коммунистических идей
- 4) разрастание региональных вооружённых конфликтов

Ответ:

18) Прочтите отрывок из исторического источника и укажите страну, о которой идёт речь.

«20 августа 1968 г. в 23 часа союзнические войска под командованием советского генерала армии И.Г. Павловского перешли границы страны на всех направлениях. В операции под кодовым названием “Дунай” было задействовано 400 тысяч военных и 6300 танков. Через сутки с небольшим вся территория страны уже находилась под контролем армий стран Варшавского договора».

- 1) Югославия
- 2) Венгрия
- 3) Чехословакия
- 4) Польша

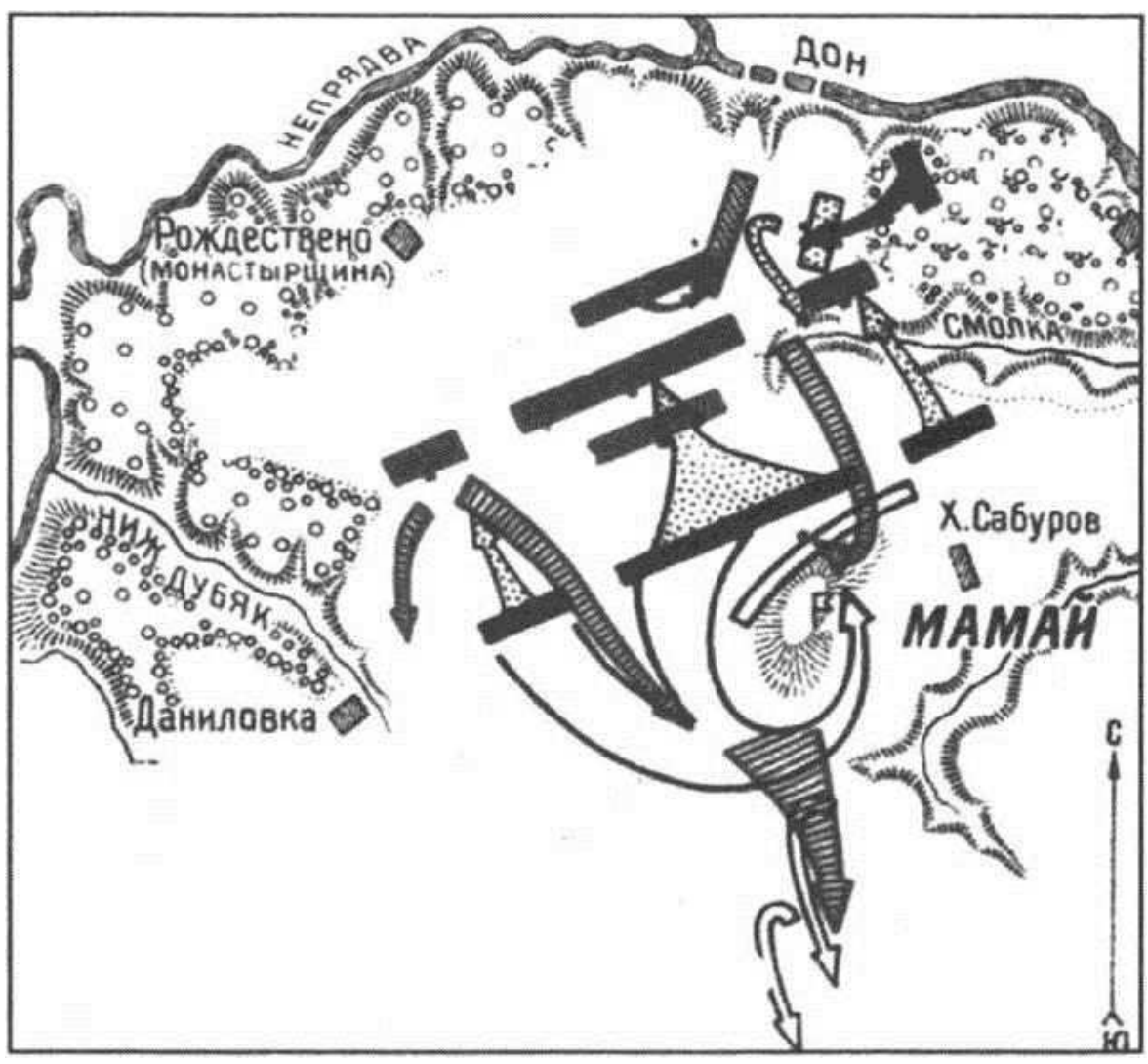
Ответ:

19) Первым Президентом СССР был

- 1) В. В. Путин
- 2) М.С. Горбачёв
- 3) Б. Н. Ельцин
- 4) Д.А. Медведев

Ответ:

20 Рассмотрите схему и выполните задание:



Укажите дату этого сражения.

- 1) 31 мая 1223 г.
- 2) 5 апреля 1242 г.
- 3) 15 июля 1240 г.
- 4) 8 сентября 1380 г.


Ответ:

21 Кто из советских поэтов прославился своими произведениями о Великой Отечественной войне?

- 1) О.Ф. Берггольц
- 2) И.О. Дунаевский.....
- 3) Е.А. Евтушенко
- 4) О.Э. Мандельштам

Ответ:

Рассмотрите изображение и выполните задание



Какое событие изображено на картине?

- 1) Синопское сражение
- 2) Чесменское сражение
- 3) Цусимское сражение
- 4) Гренгамское сражение

Ответ:

Ответами к заданиям 23-30 являются цифра, последовательность цифр или слово (словосочетание). Укажите ответы сначала в тексте работы, а затем перенесите их в БЛАНК ОТВЕТОВ 1 справа от номера соответствующего задания, начиная с первой клеточки, без пробелов, запятых и других дополнительных символов. Каждую цифру или букву пишите в отдельной клеточке в соответствии с приведёнными в бланке образцами. Имена российских государей следует писать только буквами (например: Николай Второй).

Расположите в хронологической последовательности исторические события. Запишите цифры, которыми обозначены исторические события, в правильной последовательности в таблицу

- 1) начало правления Бориса Годунова
- 2) начало регентства царевны Софьи
- 3) начало царствования Алексея Михайловича

4) избрание на царство Михаила Фёдоровича Романова

Ответ:

--	--	--	--

24) Установите соответствие между положениями судебной реформы 1864 г. и принципами, которые эти положения отражают: к каждому элементу первого столбца подберите соответствующий элемент из второго столбца.

ЯВЛЕНИЯ

ПЕРИОДЫ

А) завершение промышленного переворота

Б) начало формирования всероссийского рынка

В) начало железнодорожного строительства

1) 80-е гг. XIX в.

2) первая половина XIX в.

3) XVII в.

4) первая половина XVIII в.

Запишите в таблицу выбранные цифры под соответствующими буквами.

Ответ:

А	Б	В

25) Какие лозунги были выдвинуты большевиками в апреле 1917 г.? Найдите в приведённом ниже списке два лозунга и запишите в таблицу цифры, под которыми они указаны

1) «Вся власть Советам!»

2) «Долой самодержавие!»

3) «Война до победного конца!»

4) «Никакой поддержки Временному правительству!»

5) «Все на борьбу с Деникиным!»

Ответ:

--	--

26) Используя данные статистической таблицы, завершите представленные ниже суждения, соотнеся их начала и варианты завершения

Численность политических партий России в 1917 г.

Партия	Число членов (тыс.)	
	Март	Октябрь
Большевики	24	350
Меньшевики	45	193
Социалисты-революционеры	500	700
Кадеты	10-12	70

НАЧАЛА СУЖДЕНИЙ

А) В марте — октябре 1917 г. наименьшую численность имела партия

Б) Быстрее других по своей численности в марте — октябре 1917 г. росла партия

В) Партия большевиков в октябре 1917 г. по своей численности

ВАРИАНТЫ ЗАВЕРЩЕНИЯ СУЖДЕНИЙ

1) кадетов

2) эсеров

3) большевиков

4) являлась крупнейшей из партий, представленных в таблице

5) уступала по численности эсерам

Запишите в таблицу выбранные цифры под соответствующими буквами.

Ответ:

А	Б	В

27 Запишите термин, о котором идёт речь

«Военное вмешательство одного или нескольких государств во внутренние дела другой страны, нарушающее её суверенитет».

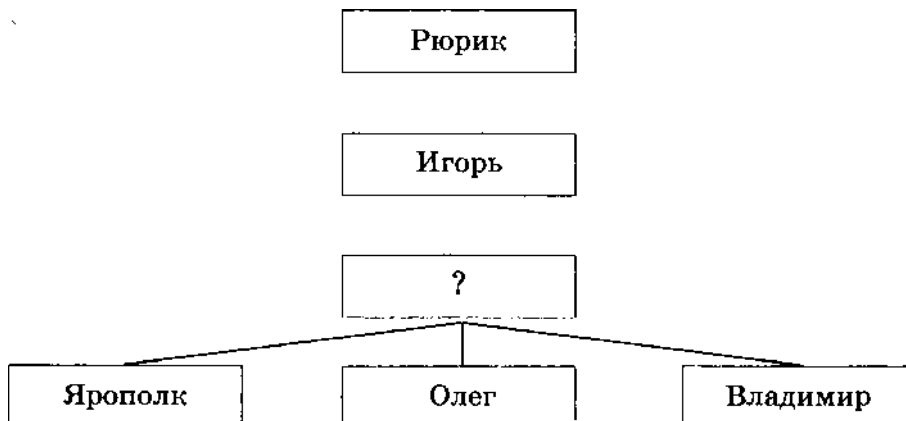
Ответ: _____

28 Сравните особенности экономического развития Российского государства в XVI в. и во второй половине XVIII в. Выберите и запишите в первую колонку таблицы порядковые номера черт сходства, а во вторую - порядковые номера черт различия.

- 1) существование внутренних таможенных пошлин
- 2) существование мануфактурного производства
- 3) отсутствие перевозки грузов по железным дорогам
- 4) преобладающее значение сельского хозяйства

Черты сходства		Черты различия	

29 Запишите имя, пропущенное в генеалогической схеме.



Ответ: _____

30

Ниже приведён перечень терминов. Все они, за исключением одного, имеют непосредственное отношение к реформам 60-70-х гг. XIX в.

- 1) мировой посредник;
- 2) присяжные;
- 3) отрезки;
- 4) земская управа;
- 5) военный поселенец.

Найдите и запишите порядковый номер термина, «выпадающего» из данного ряда.

Ответ:

Не забудьте перенести все ответы в бланк ответов № 1

Часть 2

Для ответов на задания этой части (31-35) используйте БЛАНК ОТВЕТОВ Л» 2. Запишите сначала номер задания (31, 32 и т.д.), а затем ответ к нему.

Прочитайте фрагмент исторического источника и выполните задания 31, 32. Используйте в ответах информацию текста, а также знания из курса истории

Из сочинения историка

«В тот момент, когда казалось, что император наконец-то решится на практическое осуществление своих либеральных начинаний, всё дело стало катастрофически быстро останавливаться... На поверхности остались лишь словесные либеральные всплески... Этот поворот начался не вдруг и занял... не один год, но чётко обозначился как раз в то время, когда император находился на пике своей славы... В основе этого поворота лежал целый комплекс обстоятельств, общественных потрясений, личных драм этого человека.

Во-первых... рухнули его надежды на то, что Священный союз обеспечит внутренний порядок в странах Европы, встанет на пути смут и неурядиц... Всё более заходили в тупик и внутренние дела. Конституционные реформы, планы освобождения крестьян, хотя и разрабатывались в глубокой тайне, но становились известны в обществе, вызвали яростное сопротивление большинства дворянства... Восстал Семёновский полк, появились сведения о действиях тайных обществ в России. Против русского наместника в Варшаве Константина Павловича нарастало недовольство в армии и обществе... приходили страшные вести о разгаре европейских революций: Португалия, Испания, Неаполь, Пьемонт, Греция...

Не произведя на свет ничего путного, императору пришлось под давлением дворянства и угрозой личной гибели, под страхом народных восстаний быстро сворачивать свои либеральные программы».

31

Назовите императора, о котором идёт речь в тексте. Укажите годы его правления

32

Найдите в отрывке и запишите предложение, описывающее ситуацию, причины складывания которой обосновываются в последующем тексте. Напишите не менее двух причин, вызвавших данную ситуацию.

Задания 33-35 предусматривают разные виды деятельности: анализ исторической ситуации (33), сравнение исторических событий и явлений (34), составление плана ответа на данную тему (35). Выполняя эти задания, обращайтесь внимание на формулировку каждого вопроса.

33

В это послевоенное десятилетие одним из лидеров советского кинопроката стала весёлая комедия, в которой молодой герой после армейской службы вместе с товарищами отправляется осваивать веками непаханные земли. Картина снималась в настоящем совхозе, появившемся в те годы в голой степи, носила агитационный характер и побудила многих людей последовать примеру её героев

- 1) Укажите название, которое получили земли, об освоении которых идёт речь.
- 2) Назовите руководителя страны в годы, когда происходили описываемые события.
- 3) Что заставило руководство страны принять решение об освоении этих территорий?

34

Русско-турецкие войны 1853-1856 гг. и 1877- 1878 гг. разделяет чуть более двух десятилетий. Тем не менее эти две войны серьёзно отличаются друг от друга. Приведите не менее двух фактов, подтверждающих эти отличия.

35

Вам поручено подготовить развёрнутый ответ по теме «Февральская революция в России». Составьте план, в соответствии с которым вы будете освещать эту тему. План должен содержать не менее трёх пунктов. Напишите краткое пояснение содержания любых двух пунктов. План с пояснениями должен отразить основные события (явления), связанные с темой «Февральская революция в России».

Если Вы затрудняетесь в составлении плана, который бы полностью раскрывал данную тему, то можете выбрать один из существенных вопросов (разделов, направлений, проблем) темы.

Напишите заголовок плана по выбранному Вами вопросу (разделу, направлению, проблеме) и составьте план, раскрывающий его содержание, соблюдая все требования к количеству пунктов плана и пояснений.