

ПРОЕКТ

Перспективная модель измерительных материалов для государственной итоговой аттестации по программам среднего общего образования по ХИМИИ

Демонстрационный вариант

Инструкция по выполнению работы

Экзаменационная работа состоит из двух частей, включающих в себя 33 задания. Часть 1 содержит 26 заданий с кратким ответом, часть 2 содержит 7 заданий с развёрнутым ответом.

На выполнение экзаменационной работы по химии отводится 3,5 часа (210 минут).

Ответом к заданиям части 1 является последовательность цифр или число. Ответ запишите по приведённым ниже образцам в поле ответа в тексте работы, а затем перенесите в бланк ответов № 1. Последовательность цифр в заданиях 1–23 запишите без пробелов, запятых и других дополнительных символов.

КИМ

Ответ:

3	5
---	---

3	5											
---	---	--	--	--	--	--	--	--	--	--	--	--

Ответ:

X	Y
4	2

4	2											
---	---	--	--	--	--	--	--	--	--	--	--	--

Ответ: 3,4

3	,	4										
---	---	---	--	--	--	--	--	--	--	--	--	--

Бланк

Ответы к заданиям 27–33 включают в себя подробное описание всего хода выполнения задания. В бланке ответов № 2 укажите номер задания и запишите его полное решение.

Все бланки ЕГЭ заполняются яркими чёрными чернилами. Допускается использование гелевой или капиллярной ручки.

При выполнении заданий можно пользоваться черновиком. **Записи в черновике, а также в тексте контрольных измерительных материалов не учитываются при оценивании работы.**

При выполнении работы используйте Периодическую систему химических элементов Д.И. Менделеева, таблицу растворимости солей, кислот и оснований в воде, электрохимический ряд напряжений металлов. Эти сопроводительные материалы прилагаются к тексту работы.

Для вычислений используйте непрограммируемый калькулятор.

Баллы, полученные Вами за выполненные задания, суммируются. Постарайтесь выполнить как можно больше заданий и набрать наибольшее количество баллов.

После завершения работы проверьте, чтобы ответ на каждое задание в бланках ответов № 1 и № 2 был записан под правильным номером.

Желаем успеха!

Часть 1

Ответом к заданиям 1–23 является последовательность цифр. Ответ запишите в поле ответа в тексте работы, а затем перенесите в БЛАНК ОТВЕТОВ № 1 справа от номера соответствующего задания, начиная с первой клеточки. Последовательность цифр записывайте без пробелов, запятых и других дополнительных символов. Каждый символ пишете в отдельной клеточке в соответствии с приведёнными в бланке образцами. Цифры в ответах на задания 7, 8, 10, 14, 15, 18, 19, 21, 22, 23 могут повторяться.

Для выполнения заданий 1–3 используйте следующий ряд химических элементов:

1) Cs 2) С 3) О 4) Cr 5) N

Ответом в заданиях 1–3 является последовательность цифр, под которыми указаны химические элементы **в данном ряду**.

1

Определите, атомы каких из указанных в ряду элементов в основном состоянии имеют одинаковое число неспаренных электронов. Запишите номера выбранных элементов.

Ответ:

--	--

2

Из указанных в ряду химических элементов выберите три *p*-элемента. Расположите выбранные элементы в порядке уменьшения их атомного радиуса. Запишите номера выбранных элементов в нужной последовательности.

Ответ:

--	--	--

3

Из числа указанных в ряду элементов выберите два элемента, которые имеют одинаковую разность между значениями их высшей и нижней степени окисления. Запишите номера выбранных элементов.

Ответ:

--	--

4 Из предложенного перечня выберите два вещества молекулярного строения с ковалентной полярной связью.

- 1) Na_2SO_4
- 2) HCOOH
- 3) CH_4
- 4) CaO
- 5) Cl_2

Запишите номера выбранных ответов.

Ответ:

--	--

5 Из предложенного перечня выберите два вещества, с каждым из которых железо реагирует без нагревания.

- 1) хлорид кальция (р-р)
- 2) сульфат меди(II) (р-р)
- 3) концентрированная азотная кислота
- 4) разбавленная соляная кислота
- 5) оксид алюминия

Запишите номера выбранных ответов.

Ответ:

--	--

6 В одну из пробирок с осадком гидроксида алюминия добавили сильную кислоту X, а в другую – раствор вещества Y. В результате в каждой из пробирок наблюдали растворение осадка. Из предложенного перечня выберите вещества X и Y, которые могут вступать в описанные реакции.

- 1) бромоводородная кислота
- 2) гидросульфид натрия
- 3) сероводородная кислота
- 4) гидроксид калия
- 5) гидрат аммиака

Запишите в таблицу номера выбранных веществ под соответствующими буквами.

Ответ:

X	Y

7 Установите соответствие между формулой вещества и реагентами, с каждым из которых это вещество может взаимодействовать: к каждой позиции, обозначенной буквой, подберите соответствующую позицию, обозначенную цифрой.

ФОРМУЛА ВЕЩЕСТВА

- A) S
- Б) SO_3
- В) $\text{Zn}(\text{OH})_2$
- Г) ZnBr_2 (р-р)

РЕАГЕНТЫ

- 1) AgNO_3 , Na_3PO_4 , Cl_2
- 2) BaO , H_2O , KOH
- 3) H_2 , Cl_2 , O_2
- 4) HBr , LiOH , CH_3COOH (р-р)
- 5) H_3PO_4 (р-р), BaCl_2 , CuO

Запишите в таблицу выбранные цифры под соответствующими буквами.

Ответ:

A	Б	В	Г

8 Установите соответствие между исходными веществами, вступающими в реакцию, и продуктами этой реакции: к каждой позиции, обозначенной буквой, подберите соответствующую позицию, обозначенную цифрой.

ИСХОДНЫЕ ВЕЩЕСТВА

- A) Mg и H_2SO_4 (конц.)
- Б) MgO и H_2SO_4
- В) S и H_2SO_4 (конц.)
- Г) H_2S и O_2 (изб.)

ПРОДУКТЫ РЕАКЦИИ

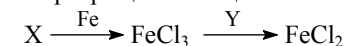
- 1) MgSO_4 и H_2O
- 2) MgO , SO_2 и H_2O
- 3) H_2S и H_2O
- 4) SO_2 и H_2O
- 5) MgSO_4 , H_2S и H_2O
- 6) SO_3 и H_2O

Запишите в таблицу выбранные цифры под соответствующими буквами.

Ответ:

A	Б	В	Г

9 Задана следующая схема превращений веществ:



Определите, какие из указанных веществ являются веществами X и Y.

- 1) HCl
- 2) CuCl_2
- 3) KI
- 4) Cl_2
- 5) AgI

Запишите в таблицу номера выбранных веществ под соответствующими буквами.

Ответ:

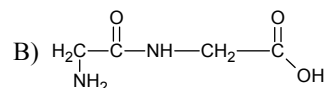
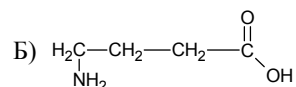
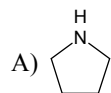
X	Y

10

Установите соответствие между формулой вещества и классом/группой органических соединений, к которому(-ой) это вещество принадлежит: к каждой позиции, обозначенной буквой, подберите соответствующую позицию, обозначенную цифрой.

ФОРМУЛА ВЕЩЕСТВА

КЛАСС/ГРУППА ОРГАНИЧЕСКИХ СОЕДИНЕНИЙ



- 1) дипептиды
- 2) амины
- 3) аминокислоты
- 4) карбоновые кислоты

Запишите в таблицу выбранные цифры под соответствующими буквами.

Ответ:

А	Б	В

11

Из предложенного перечня выберите два вещества, которые являются структурными изомерами бутена-1.

- 1) бутан
- 2) циклобутан
- 3) бутин-2
- 4) бутадиен-1,3
- 5) метилпропен

Запишите номера выбранных ответов.

Ответ:

--	--

12

Из предложенного перечня выберите все вещества, которые взаимодействуют с водным раствором перманганата калия.

- 1) гексен-1
- 2) бензол
- 3) метилбензол
- 4) этилацетат
- 5) уксусный альдегид

Запишите номера выбранных ответов.

Ответ:

--	--	--	--	--

13

Из предложенного перечня выберите два вещества, с которыми реагирует метиламин.

- 1) пропан
- 2) хлорметан
- 3) водород
- 4) гидроксид натрия
- 5) соляная кислота

Запишите номера выбранных ответов.

Ответ:

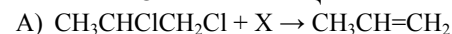
--	--

14

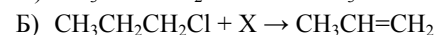
Установите соответствие между схемой реакции и веществом X, принимающим в ней участие: к каждой позиции, обозначенной буквой, подберите соответствующую позицию, обозначенную цифрой.

СХЕМА РЕАКЦИИ

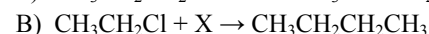
ВЕЩЕСТВО X



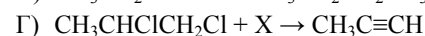
1) Mg



2) NaOH (спирт.)



3) NaOH (водн.)

4) $\text{Cu}(\text{OH})_2$

5) Na

6) Cu

Запишите в таблицу выбранные цифры под соответствующими буквами.

Ответ:

А	Б	В	Г

- 15 Установите соответствие между реагирующими веществами и углеродсодержащим продуктом, который образуется при взаимодействии этих веществ: к каждой позиции, обозначенной буквой, подберите соответствующую позицию, обозначенную цифрой.

РЕАГИРУЮЩИЕ ВЕЩЕСТВА

- А) уксусная кислота и сульфид натрия
 Б) муравьиная кислота и гидроксид натрия
 В) муравьиная кислота и оксид меди(II) (при нагревании)
 Г) этанол и натрий

ПРОДУКТ
ВЗАИМОДЕЙСТВИЯ

- 1) пропионат натрия
 2) этилат натрия
 3) формиат меди(II)
 4) формиат натрия
 5) ацетат натрия
 6) углекислый газ

Запишите в таблицу выбранные цифры под соответствующими буквами.

Ответ:

А	Б	В	Г

- 16 Задана следующая схема превращений веществ:



Определите, какие из указанных веществ являются веществами X и Y.

- 1) H₂
 2) CuO
 3) Cu(OH)₂
 4) NaOH (H₂O)
 5) NaOH (спирт)

Запишите в таблицу номера выбранных веществ под соответствующими буквами.

Ответ:

X	Y

- 17 Из предложенного перечня выберите все суждения, которые справедливы для реакции: $\text{CO}_{(г)} + 2\text{H}_{2(г)} \rightarrow \text{CH}_3\text{OH}_{(г)} + Q$

- 1) относится к гомогенным реакциям
 2) относится к окислительно-восстановительным реакциям
 3) повышение давления увеличивает скорость образования метанола
 4) увеличение концентрации водорода не влияет на скорость образования метанола
 5) повышение температуры увеличивает скорость данной реакции

Запишите номера выбранных ответов.

Ответ:

--	--	--	--	--

- 18 Установите соответствие между уравнением реакции и свойством элемента азота, которое он проявляет в этой реакции: к каждой позиции, обозначенной буквой, подберите соответствующую позицию, обозначенную цифрой.

УРАВНЕНИЕ РЕАКЦИИ

- А) $\text{NH}_4\text{HCO}_3 = \text{NH}_3 + \text{H}_2\text{O} + \text{CO}_2$
 Б) $3\text{CuO} + 2\text{NH}_3 = \text{N}_2 + 3\text{Cu} + 3\text{H}_2\text{O}$
 В) $4\text{NH}_3 + 5\text{O}_2 = 4\text{NO} + 6\text{H}_2\text{O}$

СВОЙСТВО АЗОТА

- 1) является окислителем
 2) является восстановителем
 3) является и окислителем, и восстановителем
 4) не проявляет окислительно-восстановительных свойств

Запишите в таблицу выбранные цифры под соответствующими буквами.

Ответ:

А	Б	В

- 19** Установите соответствие между формулой соли и продуктами электролиза водного раствора этой соли, которые выделились на инертных электродах: к каждой позиции, обозначенной буквой, подберите соответствующую позицию, обозначенную цифрой.

ФОРМУЛА СОЛИ

- A) Na_3PO_4
 Б) KCl
 В) CuBr_2

ПРОДУКТЫ ЭЛЕКТРОЛИЗА

- 1) металл, кислород
 2) металл, галоген
 3) водород, кислород
 4) водород, галоген

Запишите в таблицу выбранные цифры под соответствующими буквами.

Ответ:

А	Б	В

- 20** Для веществ, приведенных в перечне, определите среду их водных растворов с одинаковой молярной концентрацией:

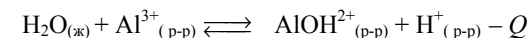
- 1) Na_2SO_4
 2) $\text{Fe}(\text{NO}_3)_2$
 3) K_2SO_3
 4) HClO_3

Запишите номера веществ в порядке возрастания значения рН их водных растворов.

Ответ:

--	--	--	--

- 21** Установите соответствие между способом воздействия на равновесную систему



и смещением химического равновесия в результате этого воздействия: к каждой позиции, обозначенной буквой, подберите соответствующую позицию, обозначенную цифрой.

ВОЗДЕЙСТВИЕ НА СИСТЕМУ

- A) добавление кислоты
 Б) понижение давления
 В) повышение температуры
 Г) добавление твёрдой щёлочи

НАПРАВЛЕНИЕ СМЕЩЕНИЯ ХИМИЧЕСКОГО РАВНОВЕСИЯ

- 1) смещается в сторону прямой реакции
 2) смещается в сторону обратной реакции
 3) практически не смещается

Запишите в таблицу выбранные цифры под соответствующими буквами.

Ответ:

А	Б	В	Г

- 22** Установите соответствие между формулами веществ и реагентом, с помощью которого можно различить водные растворы этих веществ: к каждой позиции, обозначенной буквой, подберите соответствующую позицию, обозначенную цифрой.

ФОРМУЛЫ ВЕЩЕСТВ

- A) HNO_3 и NaNO_3
 Б) KCl и NaOH
 В) NaCl и BaCl_2
 Г) AlCl_3 и MgCl_2

РЕАГЕНТ

- 1) Cu
 2) KOH
 3) HCl
 4) KNO_3
 5) CuSO_4

Запишите в таблицу выбранные цифры под соответствующими буквами.

Ответ:

А	Б	В	Г

- 23 Установите соответствие между веществом и основной областью его применения: к каждой позиции, обозначенной буквой, подберите соответствующую позицию, обозначенную цифрой.

ВЕЩЕСТВО	ОБЛАСТЬ ПРИМЕНЕНИЯ
А) метан	1) получение капрона
Б) изопрен	2) в качестве топлива
В) этилен	3) получение каучука
	4) получение пластмасс

Запишите в таблицу выбранные цифры под соответствующими буквами.

Ответ:

А	Б	В

Ответом к заданиям 24–26 является число. Запишите это число в поле ответа в тексте работы, соблюдая при этом указанную степень точности. Затем перенесите это число в БЛАНК ОТВЕТОВ № 1 справа от номера соответствующего задания, начиная с первой клеточки. Каждый символ пишите в отдельной клеточке в соответствии с приведёнными в бланке образцами. Единицы измерения физических величин в бланке ответа указывать не нужно.

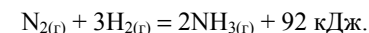
- 24 В таблице приведена растворимость бромидов калия (в граммах КВг на 100 г воды) при различной температуре.

Температура, °С	10	20	30	40	60	80	100
Растворимость, г на 100 г воды	60	65	71	76	86	95	103

Определите, сколько граммов бромидов калия выпадет в осадок при охлаждении 250 г насыщенного при 80°С раствора до температуры 20 °С. (Запишите число с точностью до целых).

Ответ: _____ г.

- 25 Синтез аммиака протекает в соответствии с термохимическим уравнением реакции



Определите количество теплоты, которое выделится в результате образования 560 мл (н.у.) газообразного аммиака. (Запишите число с точностью до сотых.)

Ответ: _____ кДж.

- 26 Из 120 кг природного известняка при взаимодействии с азотной кислотой был получен нитрат кальция массой 180 кг. Вычислите массовую долю (%) примесей в указанном известняке. (Запишите число с точностью до десятых.)

Ответ: _____ %.



Не забудьте перенести все ответы в бланк ответов № 1 в соответствии с инструкцией по выполнению работы. Проверьте, чтобы каждый ответ был записан в строке с номером соответствующего задания.

Часть 2

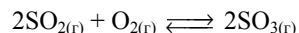
Для записи ответов на задания 27–33 используйте **БЛАНК ОТВЕТОВ № 2**. Запишите сначала номер задания (30, 31 и т.д.), а затем его подробное решение. Ответы записывайте чётко и разборчиво.

Для выполнения заданий 27, 28 используйте следующий перечень веществ: перманганат калия, гидрокарбонат натрия, сульфит натрия, сульфат бария, гидроксид калия, пероксид водорода. Допустимо использование водных растворов веществ.

27 Из предложенного перечня выберите вещества, между которыми окислительно-восстановительная реакция протекает с изменением цвета раствора. Выделение осадка или газа в ходе этой реакции не наблюдается. В ответе запишите уравнение только одной из возможных окислительно-восстановительных реакций с участием выбранных веществ. Составьте электронный баланс, укажите окислитель и восстановитель.

28 Из предложенного перечня веществ выберите кислую соль и вещество, которое вступает с этой кислотной солью в реакцию ионного обмена. Запишите молекулярное, полное и сокращённое ионные уравнения реакции с участием выбранных веществ.

29 В реактор постоянного объема поместили некоторое количество оксида серы(IV) и кислорода. В результате протекания обратимой реакции в реакционной системе



установилось химическое равновесие.

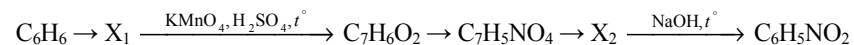
Используя данные, приведенные в таблице, определите исходную концентрацию кислорода и равновесную концентрацию оксида серы(IV).

Реагент	SO ₂	O ₂	SO ₃
Исходная концентрация, моль/л	0,6	X	0
Равновесная концентрация, моль/л	Y	0,3	0,4

В ответе приведите все необходимые вычисления (указывайте единицы измерения искомых физических величин).

30 При электролизе водного раствора нитрата меди(II) получили металл. Металл обработали концентрированной серной кислотой при нагревании. Выделившийся в результате газ прореагировал с сероводородом с образованием простого вещества. Это вещество нагрели с концентрированным раствором гидроксида калия. Напишите уравнения четырёх описанных реакций.

31 Напишите уравнения реакций, с помощью которых можно осуществить следующие превращения:



При написании уравнений реакций указывайте преимущественно образующиеся продукты, используйте структурные формулы органических веществ.

32 Смесь кальция и карбоната кальция, в которой массовая доля атомов кальция равна 50%, растворили в 300 г соляной кислоты, взятой в избытке. При этом образовался раствор массой 330 г. Один из выделившихся в результате реакции газов полностью поглотился 200 г 8%-ного раствора гидроксида натрия. Вычислите массовую долю соли в растворе, получившемся в результате реакции.

В ответе запишите уравнения реакций, которые указаны в условии задачи, и приведите все необходимые вычисления (указывайте единицы измерения искомых физических величин).

33 При сгорании органического вещества А массой 3,4 г получено 4,48 л (н.у.) углекислого газа и 1,8 г воды. Известно, что вещество А вступает в реакцию с раствором гидроксида лития при нагревании, в результате чего образуется предельный одноатомный спирт и соль, кислотный остаток которой содержит семь атомов углерода.

На основании данных условия задачи:

1) проведите необходимые вычисления (указывайте единицы измерения искомых физических величин) и установите молекулярную формулу вещества А;

2) составьте возможную структурную формулу вещества А, которая однозначно отражает порядок связи атомов в его молекуле;

3) напишите уравнение реакции вещества А с раствором гидроксида лития при нагревании (используйте структурные формулы органических веществ);

4) рассчитайте массу соли, образовавшейся из 2,72 г исходного органического вещества, если выход соли составил 70%.



Проверьте, чтобы каждый ответ был записан рядом с номером соответствующего задания.

Система оценивания экзаменационной работы по химии**Часть 1**

За правильный ответ на каждое из заданий 1–5, 10–13, 17–20, 23–26 ставится 1 балл. Задание считается выполненным верно, если экзаменуемый дал правильный ответ в виде последовательности цифр или числа с заданной степенью точности.

Порядок записи цифр в ответах на задания 1-5, 11-13, 17 может быть любым.

Номер задания	Правильный ответ
1	35
2	341
3	35
4	23
5	24
10	231
11	25
12	135
13	25
17	1235
18	422
19	143
20	3124
23	234
24	38; 39
25	1,15
26	8,5

Выполнение заданий 6–9, 14–16, 21 и 22 считается выполненными верно, если правильно указана последовательность цифр.

За полный правильный ответ заданий 6–9, 14–16, 21 и 22 ставится 2 балла; если допущена одна ошибка – 1 балл; за неверный ответ (более одной ошибки) или его отсутствие – 0 баллов.

Номер задания	Правильный ответ
6	14
7	3241
8	5144
9	43
14	1252
15	5432
16	42
21	2311
22	1552

Часть 2

Критерии оценивания заданий с развёрнутым ответом

За выполнение заданий 27, 28 и 29 ставится от 0 до 2 баллов; заданий 30, 32 и 33 – от 0 до 4 баллов; задания 31 – от 0 до 5 баллов.

Для выполнения заданий 27 и 28 используйте следующий перечень веществ: перманганат калия, гидрокарбонат натрия, сульфит натрия, сульфат бария, гидроксид калия, пероксид водорода. Допустимо использование водных растворов веществ.

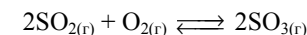
- 27 Из предложенного перечня веществ выберите вещества, между которыми окислительно-восстановительная реакция протекает с изменением цвета раствора. Выделение осадка или газа в ходе этой реакции не наблюдается. В ответе запишите уравнение только одной из возможных окислительно-восстановительных реакций с участием выбранных веществ. Составьте электронный баланс, укажите окислитель и восстановитель.

Содержание верного ответа и указания по оцениванию (допускаются иные формулировки ответа, не искажающие его смысла)	Баллы
Вариант ответа: $\text{Na}_2\text{SO}_3 + 2\text{KMnO}_4 + 2\text{KOH} = \text{Na}_2\text{SO}_4 + 2\text{K}_2\text{MnO}_4 + \text{H}_2\text{O}$ $\begin{array}{l} 2 \text{ Mn}^{+7} + \bar{e} \rightarrow \text{Mn}^{+6} \\ 1 \text{ S}^{+4} - 2\bar{e} \rightarrow \text{S}^{+6} \end{array}$ Сульфит натрия (или сера в степени окисления +4) является восстановителем. Перманганат калия (или марганец в степени окисления +7) – окислителем	
Ответ правильный и полный, содержит следующие элементы: <ul style="list-style-type: none"> • выбраны вещества, и записано уравнение окислительно-восстановительной реакции; • составлен электронный баланс, указаны окислитель и восстановитель 	2
Правильно записан один элемент ответа	1
Все элементы ответа записаны неверно	0
<i>Максимальный балл</i>	2

- 28 Из предложенного перечня веществ выберите кислую соль и вещество, которое вступает с этой кислотой в реакцию ионного обмена. Запишите молекулярное, полное и сокращённое ионные уравнения реакции с участием выбранных веществ.

Содержание верного ответа и указания по оцениванию (допускаются иные формулировки ответа, не искажающие его смысла)	Баллы
Вариант ответа: $2\text{NaHCO}_3 + 2\text{KOH} = \text{Na}_2\text{CO}_3 + \text{K}_2\text{CO}_3 + 2\text{H}_2\text{O}$ $2\text{Na}^+ + 2\text{HCO}_3^- + 2\text{K}^+ + 2\text{OH}^- = 2\text{Na}^+ + 2\text{K}^+ + 2\text{CO}_3^{2-} + 2\text{H}_2\text{O}$ $\text{HCO}_3^- + \text{OH}^- = \text{CO}_3^{2-} + \text{H}_2\text{O}$	
Ответ правильный и полный, содержит следующие элементы: <ul style="list-style-type: none"> • выбраны вещества, и записано молекулярное уравнение реакции ионного обмена; • записаны полное и сокращённое ионные уравнения реакций 	2
Правильно записан один элемент ответа	1
Все элементы ответа записаны неверно	0
<i>Максимальный балл</i>	2

- 29 В реактор постоянного объема поместили некоторое количество оксида серы(IV) и кислорода. В результате протекания обратимой реакции в реакционной системе



установилось химическое равновесие.

Используя данные, приведенные в таблице, определите исходную концентрацию кислорода (X) и равновесную концентрацию оксида серы(IV) (Y).

Реагент	SO ₂	O ₂	SO ₃
Исходная концентрация, моль/л	0,6	X	0
Равновесная концентрация, моль/л	Y	0,3	0,4

В ответе приведите все необходимые вычисления (указывайте единицы измерения искомых физических величин).

Содержание верного ответа и указания по оцениванию (допускаются иные формулировки ответа, не искажающие его смысла)	Баллы
Вариант ответа: Рассчитана равновесная концентрация вещества Y: Пусть объем реактора 1 л. Тогда, $n(\text{SO}_2 \text{ прореаг.}) = n(\text{SO}_3 \text{ равновесн.}) = 0,4 \text{ моль}$ $n(\text{SO}_2 \text{ равновесн.}) = 0,6 - 0,4 = 0,2 \text{ моль}$ $Y = 0,2 \text{ моль/л}$ Рассчитана концентрация вещества X: $n(\text{O}_2 \text{ прореаг.}) = 0,5 n(\text{SO}_3 \text{ равновесн.}) = 0,2 \text{ моль}$ $n(\text{O}_2 \text{ исх.}) = 0,3 + 0,2 = 0,5 \text{ моль}$ $X = 0,5 \text{ моль/л}$	
Ответ правильный и полный, содержит следующие элементы: <ul style="list-style-type: none"> рассчитана концентрация вещества X; рассчитана равновесная концентрация вещества Y. 	2
Правильно записан один элемент ответа	1
Все элементы ответа записаны неверно	0
<i>Максимальный балл</i>	2

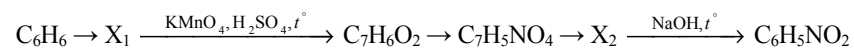
30

При электролизе водного раствора нитрата меди(II) получили металл. Металл обработали концентрированной серной кислотой при нагревании. Выделившийся в результате газ прореагировал с сероводородом с образованием простого вещества. Это вещество нагрели с концентрированным раствором гидроксида калия. Напишите уравнения четырех описанных реакций.

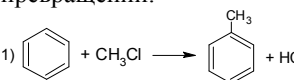
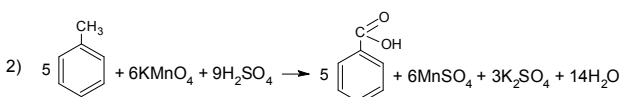
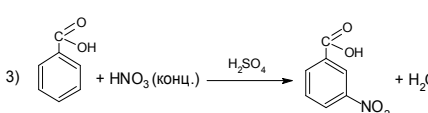
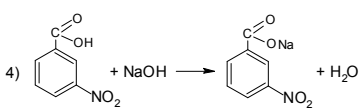
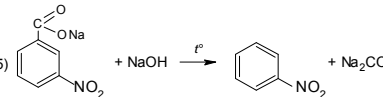
Содержание верного ответа и указания по оцениванию (допускаются иные формулировки ответа, не искажающие его смысла)	Баллы
Вариант ответа: 1) $2\text{Cu}(\text{NO}_3)_2 + 2\text{H}_2\text{O} = 2\text{Cu} + 4\text{HNO}_3 + \text{O}_2$ (электролиз) 2) $\text{Cu} + 2\text{H}_2\text{SO}_{4(\text{конц.})} = \text{CuSO}_4 + \text{SO}_2\uparrow + 2\text{H}_2\text{O}$ 3) $\text{SO}_2 + 2\text{H}_2\text{S} = 3\text{S} + 2\text{H}_2\text{O}$ 4) $3\text{S} + 6\text{KOH} = 2\text{K}_2\text{S} + \text{K}_2\text{SO}_3 + 3\text{H}_2\text{O}$ (возможно образование $\text{K}_2\text{S}_2\text{O}_3$)	
Правильно записаны четыре уравнения реакций	4
Правильно записаны три уравнения реакций	3
Правильно записаны два уравнения реакций	2
Правильно записано одно уравнение реакции	1
Все уравнения реакций записаны неверно	0
<i>Максимальный балл</i>	4

31

Напишите уравнения реакций, с помощью которых можно осуществить следующие превращения:



При написании уравнений реакций указывайте преимущественно образующиеся продукты, используйте структурные формулы органических веществ.

Содержание верного ответа и указания по оцениванию (допускаются иные формулировки ответа, не искажающие его смысла)	Баллы
Элементы ответа: Написаны уравнения реакций, соответствующие схеме превращений:	
1) 	
2) 	
3) 	
4) 	
5) 	
Правильно записаны пять уравнений реакций	5
Правильно записаны четыре уравнения реакций	4
Правильно записаны три уравнения реакций	3
Правильно записаны два уравнения реакций	2
Правильно записано одно уравнение реакции	1
Все элементы ответа записаны неверно	0
<i>Максимальный балл</i>	5

Примечание. Допустимо использование структурных формул разного вида (развёрнутой, сокращённой, скелетной), однозначно отражающих порядок связи атомов и взаимное расположение заместителей и функциональных групп в молекуле органического вещества.

32

Смесь кальция и карбоната кальция, в которой массовая доля атомов кальция равна 50%, растворили в 300 г соляной кислоты, взятой в избытке. При этом образовался раствор массой 330 г. Один из выделившихся в результате реакции газов полностью поглотился 200 г 8%-ного раствора гидроксида натрия. Вычислите массовую долю соли в растворе, получившемся в результате реакции.

В ответе запишите уравнения реакций, которые указаны в условии задачи, и приведите все необходимые вычисления (указывайте единицы измерения искомых физических величин).

Содержание верного ответа и указания по оцениванию (допускаются иные формулировки ответа, не искажающие его смысла)	Баллы
<p>Вариант ответа: Записаны уравнения реакций: [1] $\text{Ca} + 2\text{HCl} = \text{CaCl}_2 + \text{H}_2$ [2] $\text{CaCO}_3 + 2\text{HCl} = \text{CaCl}_2 + \text{CO}_2 + \text{H}_2\text{O}$ [3] $\text{CO}_2 + \text{NaOH} = \text{NaHCO}_3$</p> <p>Рассчитаны количество вещества реагентов и массы продуктов реакций: $\Delta m(\text{p-pa}) = 330 - 300 = 30 \text{ г}$</p> <p>Пусть в исходной смеси $n(\text{Ca}) = x \text{ моль}$ $n(\text{CaCO}_3) = y \text{ моль}$</p> <p>Тогда $\Delta m(\text{p-pa}) = 40x + 100y - 2x - 44y = 30 \text{ г}$ $\omega(\text{Ca}) = 40(x + y) / (40x + 100y) = 0,5$ $n(\text{Ca}) = x = 0,2 \text{ моль}$ $n(\text{CaCO}_3) = y = 0,4 \text{ моль}$ $n(\text{CO}_2) = n(\text{CaCO}_3) = 0,4 \text{ моль}$ $m(\text{CO}_2) = 0,4 \cdot 44 = 17,6 \text{ г}$</p> <p>$m(\text{NaOH}) = 200 \cdot 0,08 = 16 \text{ г}$ $n(\text{NaOH}) = 16 / 40 = 0,4 \text{ моль}$ $n(\text{NaHCO}_3) = n(\text{NaOH}) = 0,4 \text{ моль}$ $m(\text{NaHCO}_3) = 0,4 \cdot 84 = 33,6 \text{ г}$</p>	

Вычислена массовая доля соли в растворе:

$$m(\text{p-pa}) = 200 + 17,6 = 217,6 \text{ г}$$

$$\omega(\text{NaHCO}_3) = 33,6 / 217,6 = 0,154, \text{ или } 15,4\%$$

Ответ правильный и полный, содержит следующие элементы:

- правильно записаны уравнения реакций, соответствующих условию задания;
- правильно произведены вычисления, в которых используются необходимые физические величины, заданные в условии задания;
- продемонстрирована логически обоснованная взаимосвязь физических величин, на основании которых проводятся расчёты;
- в соответствии с условием задания определена искомая физическая величина

Правильно записаны три элемента ответа	3
Правильно записаны два элемента ответа	2
Правильно записан один элемент ответа	1
Все элементы ответа записаны неверно	0
<i>Максимальный балл</i>	<i>4</i>

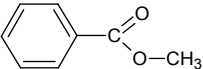
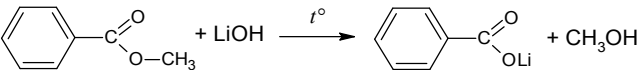
Примечание. В случае, когда в ответе содержится ошибка в вычислениях, которая привела к неверному ответу, оценка за выполнение задания снижается только на 1 балл.

33

При сгорании органического вещества А массой 3,4 г получено 4,48 л (н.у.) углекислого газа и 1,8 г воды. Известно, что вещество А вступает в реакцию с раствором гидроксида лития при нагревании, в результате чего образуется предельный одноатомный спирт и соль, кислотный остаток которой содержит семь атомов углерода.

На основании данных условия задачи:

- 1) проведите необходимые вычисления (указывайте единицы измерения искомых физических величин) и установите молекулярную формулу вещества А;
- 2) составьте возможную структурную формулу вещества А, которая однозначно отражает порядок связи атомов в его молекуле;
- 3) напишите уравнение реакции вещества А с раствором гидроксида лития при нагревании (используйте структурные формулы органических веществ);
- 4) рассчитайте массу соли, образовавшейся из 2,72 г исходного органического вещества, если выход соли составил 70%.

Содержание верного ответа и указания по оцениванию (допускаются иные формулировки ответа, не искажающие его смысла)	Баллы
<p>Вариант ответа: Проведены необходимые вычисления, и найдена молекулярная формула вещества А: $n(\text{CO}_2) = 4,48 / 22,4 = 0,2$ моль; $n(\text{C}) = 0,2$ моль $n(\text{H}_2\text{O}) = 1,8 / 18 = 0,1$ моль; $n(\text{H}) = 0,1 \cdot 2 = 0,2$ моль $m(\text{C} + \text{H}) = 0,2 \cdot 12 + 0,2 \cdot 1 = 2,6$ г $m(\text{O}) = 3,4 - 2,6 = 0,8$ г $n(\text{O}) = 0,8 / 16 = 0,05$ моль $n(\text{C}) : n(\text{H}) : n(\text{O}) = 0,2 : 0,2 : 0,05 = 4 : 4 : 1$ Молекулярная формула – $\text{C}_8\text{H}_8\text{O}_2$</p> <p>Приведена структурная формула вещества А:</p>  <p>Составлено уравнение реакции с раствором гидроксида лития:</p>  <p>Рассчитана масса образовавшейся соли: $n(\text{сл.эфира}) = 2,72 / 136 = 0,02$ моль $n(\text{сл.эфира}) = n(\text{соли}) = 0,02$ моль $m(\text{соли})_{100\%} = 0,02 \cdot 128 = 2,56$ г $m(\text{соли})_{70\%} = 2,56 \cdot 0,7 = 1,792$ г</p>	
<p>Ответ правильный и полный, содержит следующие элементы:</p> <ul style="list-style-type: none"> • правильно произведены вычисления, необходимые для установления молекулярной формулы вещества, и записана молекулярная формула вещества; • записана структурная формула органического вещества, которая отражает порядок связи и взаимное расположение заместителей и функциональных групп в молекуле в соответствии с условием задания; • с использованием структурной формулы органического вещества записано уравнение реакции, на которую даётся указание в условии задания • рассчитана масса образовавшейся соли 	4
Правильно записаны три элемента ответа	3
Правильно записаны два элемента ответа	2
Правильно записан один элемент ответа	1
Все элементы ответа записаны неверно	0
<i>Максимальный балл</i>	4

РАСТВОРИМОСТЬ КИСЛОТ, СОЛЕЙ И ОСНОВАНИЙ В ВОДЕ

	H ⁺	Li ⁺	K ⁺	Na ⁺	NH ₄ ⁺	Ba ²⁺	Ca ²⁺	Mg ²⁺	Sr ²⁺	Al ³⁺	Cr ³⁺	Fe ²⁺	Fe ³⁺	Mn ²⁺	Zn ²⁺	Ag ⁺	Hg ²⁺	Pb ²⁺	Sn ²⁺	Cu ²⁺
OH ⁻		P	P	P	P	P	М	Н	М	Н	Н	Н	Н	Н	Н	–	–	Н	Н	Н
F ⁻	P	М	P	P	P	М	Н	Н	Н	М	Н	Н	Н	Р	Р	Р	–	Н	Р	Р
Cl ⁻	P	P	P	P	P	P	Р	Р	Р	Р	Р	Р	Р	Р	Р	Н	Р	М	Р	Р
Br ⁻	P	P	P	P	P	P	Р	Р	Р	Р	Р	Р	Р	Р	Р	Н	М	М	Р	Р
I ⁻	P	P	P	P	P	P	Р	Р	Р	Р	?	Р	?	Р	Р	Н	Н	Н	М	?
S ²⁻	P	P	P	P	P	–	–	–	Н	–	–	Н	–	Н	Н	Н	Н	Н	Н	Н
HS ⁻	P	P	P	P	P	Р	Р	Р	Р	?	?	?	?	?	?	?	?	?	?	?
SO ₃ ²⁻	P	P	P	P	P	Н	Н	М	Н	?	–	Н	?	?	М	Н	Н	Н	?	?
HSO ₃ ⁻	P	?	P	P	P	Р	Р	Р	Р	?	?	?	?	?	?	?	?	?	?	?
SO ₄ ²⁻	P	P	P	P	P	Н	М	Р	Н	Р	Р	Р	Р	Р	Р	М	–	Н	Р	Р
HSO ₄ ⁻	P	P	P	P	P	?	?	?	–	?	?	?	?	?	?	?	?	Н	?	?
NO ₃ ⁻	P	P	P	P	P	Р	Р	Р	Р	Р	Р	Р	Р	Р	Р	Р	Р	Р	–	Р
NO ₂ ⁻	P	P	P	P	P	Р	Р	Р	Р	?	?	?	?	?	?	М	?	?	?	?
PO ₄ ³⁻	P	Н	Р	Р	–	Н	Н	Н	Н	Н	Н	Н	Н	Н	Н	Н	Н	Н	Н	Н
HPO ₄ ²⁻	P	?	Р	Р	Р	Н	Н	М	Н	?	?	Н	?	Н	?	?	?	М	Н	?
H ₂ PO ₄ ⁻	P	Р	Р	Р	Р	Р	Р	Р	Р	?	?	Р	?	Р	Р	Р	?	–	?	?
CO ₃ ²⁻	P	Р	Р	Р	Р	Н	Н	Н	Н	?	?	Н	–	Н	Н	Н	Н	Н	?	Н
HCO ₃ ⁻	P	Р	Р	Р	Р	Р	Р	Р	Р	?	?	Р	?	?	?	?	?	Р	?	?
CH ₃ COO ⁻	P	Р	Р	Р	Р	Р	Р	Р	Р	–	Р	Р	–	Р	Р	Р	Р	Р	–	Р
SiO ₃ ²⁻	Н	Н	Р	Р	?	Н	Н	Н	Н	?	?	Н	?	Н	Н	?	?	Н	?	?
MnO ₄ ⁻	Р	Р	Р	Р	Р	Р	Р	Р	Р	Р	?	?	?	?	Р	?	?	?	?	?
Cr ₂ O ₇ ²⁻	Р	Р	Р	Р	Р	М	Р	?	Н	?	?	?	Р	?	?	Н	Н	М	?	Р
CrO ₄ ²⁻	Р	Р	Р	Р	Р	Н	Р	Р	Н	?	?	?	Н	Н	Н	Н	Н	Н	Н	Н
ClO ₃ ⁻	Р	Р	Р	Р	Р	Р	Р	Р	Р	Р	Р	?	?	Р	Р	Р	Р	Р	?	Р
ClO ₄ ⁻	Р	Р	Р	Р	Р	Р	Р	Р	Р	Р	Р	Р	Р	Р	Р	Р	Р	Р	?	Р

«Р» – растворяется (> 1 г на 100 г H₂O);

«М» – мало растворяется (от 0,1 г до 1 г на 100 г H₂O)

«Н» – не растворяется (меньше 0,01 г на 1000 г воды);

«←» – в водной среде разлагается

«?» – нет достоверных сведений о существовании соединений

РЯД АКТИВНОСТИ МЕТАЛЛОВ / ЭЛЕКТРОХИМИЧЕСКИЙ РЯД НАПРЯЖЕНИЙ

Li Rb K Ba Sr Ca Na Mg Al Mn Zn Cr Fe Cd Co Ni Sn Pb (H₂) Sb Bi Cu Hg Ag Pt Au →

активность металлов уменьшается

Периодическая система химических элементов Д.И. Менделеева

		Г р у п п ы											
		I	II	III	IV	V	VI	VII	VIII				
п е р и о д ы	1	1 H 1,008 Водород						(H)					2 He 4,00 Гелий
	2	3 Li 6,94 Литий	4 Be 9,01 Бериллий	5 10,81 B Бор	6 12,01 C Углерод	7 14,00 N Азот	8 16,00 O Кислород	9 19,00 F Фтор					10 Ne 20,18 Неон
	3	11 Na 22,99 Натрий	12 Mg 24,31 Магний	13 26,98 Al Алюминий	14 28,09 Si Кремний	15 30,97 P Фосфор	16 32,06 S Сера	17 35,45 Cl Хлор					18 Ar 39,95 Аргон
	4	19 K 39,10 Калий	20 Ca 40,08 Кальций	21 Sc 44,96 Скандий	22 Ti 47,90 Титан	23 V 50,94 Ванадий	24 Cr 52,00 Хром	25 Mn 54,94 Марганец	26 Fe 55,85 Железо	27 Co 58,93 Кобальт	28 Ni 58,69 Никель		
		29 63,55 Cu Медь	30 65,39 Zn Цинк	31 69,72 Ga Галлий	32 72,59 Ge Германий	33 74,92 As Мышьяк	34 78,96 Se Селен	35 79,90 Br Бром					36 Kr 83,80 Криптон
	5	37 Rb 85,47 Рубидий	38 Sr 87,62 Стронций	39 Y 88,91 Иттрий	40 Zr 91,22 Цирконий	41 Nb 92,91 Ниобий	42 Mo 95,94 Молибден	43 Tc 98,91 Технеций	44 Ru 101,07 Рутений	45 Rh 102,91 Родий	46 Pd 106,42 Палладий		
		47 107,87 Ag Серебро	48 112,41 Cd Кадмий	49 114,82 In Индий	50 118,69 Sn Олово	51 121,75 Sb Сурьма	52 127,60 Te Теллур	53 126,90 I Иод					54 Xe 131,29 Ксенон
	6	55 Cs 132,91 Цезий	56 Ba 137,33 Барий	57 La * 138,91 Лантан	72 Hf 178,49 Гафний	73 Ta 180,95 Тантал	74 W 183,85 Вольфрам	75 Re 186,21 Рений	76 Os 190,2 Осмий	77 Ir 192,22 Иридий	78 Pt 195,08 Платина		
		79 196,97 Au Золото	80 200,59 Hg Ртуть	81 204,38 Tl Таллий	82 207,2 Pb Свинец	83 208,98 Bi Висмут	84 [209] Po Полоний	85 [210] At Астат					86 Rn [222] Радон
	7	87 Fr [223] Франций	88 Ra 226 Радий	89 Ac ** [227] Актиний	104 Rf [261] Резерфордий	105 Db [262] Дубний	106 Sg [266] Сиборгий	107 Bh [264] Борий	108 Hs [269] Хассий	109 Mt [268] Мейтнерий	110 Ds [271] Дармштадтий		
		111 [280] Rg Рентгений	112 [285] Cn Коперниций	113 [286] Nh Нихоний	114 [289] Fl Флеровий	115 [290] Mc Московский	116 [293] Lv Ливерморий	117 [294] Ts Теннессин					118 Og [294] Оганесон

* Лантаноиды

58 Ce 140 Церий	59 Pr 141 Празеодим	60 Nd 144 Неодим	61 Pm [145] Прометий	62 Sm 150 Самарий	63 Eu 152 Европий	64 Gd 157 Гадолиний	65 Tb 159 Тербий	66 Dy 162,5 Диспрозий	67 Ho 165 Гольмий	68 Er 167 Эрбий	69 Tm 169 Тулий	70 Yb 173 Иттербий	71 Lu 175 Лютеций
------------------------------	----------------------------------	-------------------------------	-----------------------------------	--------------------------------	--------------------------------	----------------------------------	-------------------------------	------------------------------------	--------------------------------	------------------------------	------------------------------	---------------------------------	--------------------------------

** Актиноиды

90 Th 232 Торий	91 Pa 231 Протактиний	92 U 238 Уран	93 Np 237 Нептуний	94 Pu [244] Плутоний	95 Am [243] Америций	96 Cm [247] Кюрий	97 Bk [247] Берклий	98 Cf [251] Калифорний	99 Es [252] Эйнштейний	100 Fm [257] Фермий	101 Md [258] Менделеевий	102 No [259] Нобелий	103 Lr [262] Лоуренсий
------------------------------	------------------------------------	----------------------------	---------------------------------	-----------------------------------	-----------------------------------	--------------------------------	----------------------------------	-------------------------------------	-------------------------------------	----------------------------------	---------------------------------------	-----------------------------------	-------------------------------------