

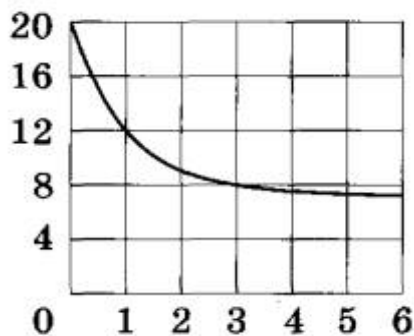
Ответом к заданиям 1–12 является целое число или конечная десятичная дробь. Запишите число в поле ответа в тексте работы, затем перенесите его в БЛАНК ОТВЕТОВ № 1 справа от номера соответствующего задания, начиная с первой клеточки. Каждую цифру, знак «минус» и запятую пишите в отдельной клеточке в соответствии с приведёнными в бланке образцами. Единицы измерений писать не нужно.

Часть 1

- 1 Показания счётчика электроэнергии 1 августа составляли 43 364 кВт·ч, а 1 сентября — 43 544 кВт·ч. Сколько нужно заплатить за электроэнергию за август, если 1 кВт·ч электроэнергии стоит 5 рублей 10 копеек? Ответ дайте в рублях?

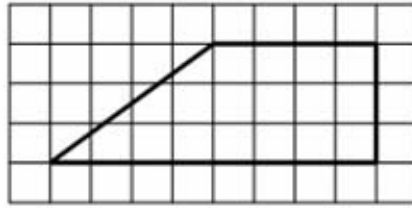
Ответ: _____.

- 2 В ходе химической реакции количество исходного вещества (реагента), которое еще не вступило в реакцию, со временем постепенно уменьшается. На рисунке эта зависимость представлена графиком. На оси абсцисс откладывается время в минутах, прошедшее с момента начала реакции, на оси ординат – масса оставшегося реагента, который еще не вступил в реакцию (в граммах). Определите по графику, сколько граммов реагента вступило в реакцию за первую минуту?



Ответ: _____.

- 3 Найдите площадь трапеции, изображенной на клетчатой бумаге с размером клетки 1×1 (см. рис.). Ответ дайте в квадратных сантиметрах.



Ответ: _____.

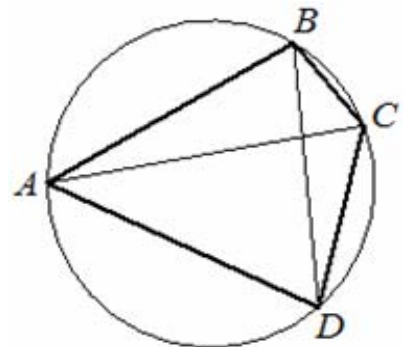
- 4 Перед началом футбольного матча судья бросает монетку, чтобы определить, какая из команд начнёт игру с мячом. Команда «Труд» играет три матча с разными командами. Найдите вероятность того, что в этих играх «Труд» выиграет жребий ровно один раз.

Ответ: _____.

- 5 Найдите корень уравнения $\sqrt{13 + 2x} = 5$.

Ответ: _____.

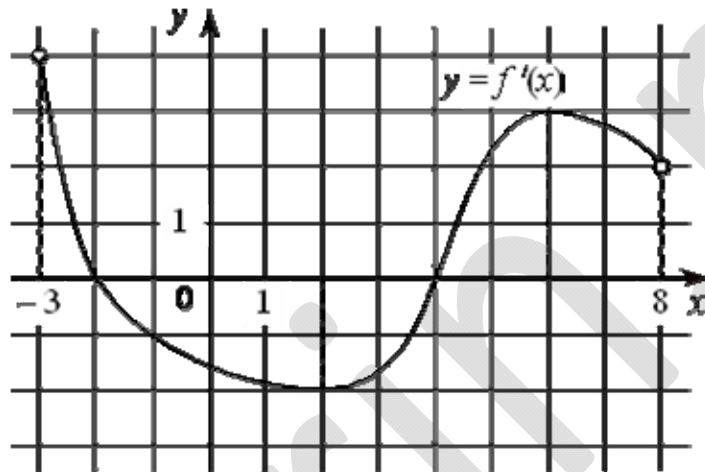
6



Четырёхугольник $ABCD$ вписан в окружность. Угол ABD равен 61° , угол CAD равен 37° . Найдите угол ABC . Ответ дайте в градусах.

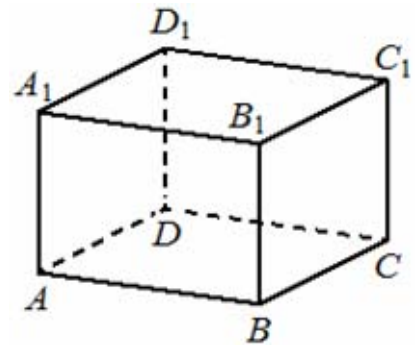
Ответ: _____.

- 7 На рисунке изображен график $y = f'(x)$ — производной функции $f(x)$, определенной на интервале $(-3; 8)$. Найдите точку минимума функции $f(x)$.



Ответ: _____.

- 8 В прямоугольном параллелепипеде $ABCD A_1 B_1 C_1 D_1$ известно, что $AB = 5$, $BC = 4$, $AA_1 = 3$. Найдите объем многогранника, вершинами которого являются точки A, B, C, B_1 .



Ответ: _____.

Не забудьте перенести все ответы в бланк ответов № 1 в соответствии с инструкцией по выполнению работы.

Часть 2

9 Найдите значение выражения $2\sqrt{2} \cos^2 \frac{3\pi}{8} - \sqrt{2}$.

Ответ: _____.

10 Установка для демонстрации адиабатического сжатия представляет собой сосуд с поршнем, резко сжимающим газ. При этом объём и давление связаны соотношением $p_1 V_1^{1,4} = p_2 V_2^{1,4}$, где p_1 и p_2 — давление газа (в атмосферах) в начальном и конечном состояниях, V_1 и V_2 — объём газа (в литрах) в начальном и конечном состояниях. Изначально объём газа равен 256 л, а давление газа равно одной атмосфере. До какого объёма нужно сжать газ, чтобы давление в сосуде стало 128 атмосфер? Ответ дайте в литрах.

Ответ: _____.

11 Имеется два сплава. Первый сплав содержит 5% меди, второй — 13% меди. Масса второго сплава больше массы первого на 9 кг. Из этих двух сплавов получили третий сплав, содержащий 10% меди. Найдите массу третьего сплава. Ответ дайте в килограммах.

Ответ: _____.

12 Найдите точку минимума функции $y = x^2 - 22x + 48 \ln x - 10$.

Ответ: _____.

Не забудьте перенести все ответы в бланк ответов № 1 в соответствии с инструкцией по выполнению работы. Проверьте, чтобы каждый ответ был записан в строке с номером соответствующего задания.

Для записи решений и ответов на задания 13–19 используйте БЛАНК ОТВЕТОВ № 2. Запишите сначала номер выполняемого задания (13, 14 и т. д.), а затем полное обоснованное решение и ответ. Ответы записывайте чётко и разборчиво.

13 а) Решите уравнение

$$2\log_2^2(2\cos x) - 9\log_2(2\cos x) + 4 = 0.$$

б) Укажите корни этого уравнения, принадлежащие отрезку $\left[-2\pi; -\frac{\pi}{2}\right]$.

14 Дана пирамида $SABC$, в которой $SC = SB = AB = AC = \sqrt{17}$, $SA = BC = 2\sqrt{5}$.

а) Докажите, что ребро SA перпендикулярно ребру BC .

б) Найдите расстояние между ребрами BC и SA .

15 Решите неравенство $\frac{9^x + 2 \cdot 3^x - 117}{3^x - 27} \leq 1$.

16 Дана трапеция $ABCD$ с основаниями BC и AD . Точки M и N являются серединами сторон AB и CD соответственно. Окружность, проходящая через точки B и C , пересекает отрезки BM и CN в точках P и Q (отличных от концов отрезков) соответственно.

а) Докажите, что точки M , N , P и Q лежат на одной окружности.

б) Найдите QN , если отрезки DP и PC перпендикулярны, $AB=21$, $BC=4$, $CD=20$, $AD=17$.

- 17** В июле 2019 года планируется взять кредит в банке на три года в размере S млн рублей, где S — **целое** число. Условия его возврата таковы:
- каждый январь долг увеличивается на 30% по сравнению с концом предыдущего года;
 - с февраля по июнь каждого года необходимо выплатить одним платежом часть долга;
 - в июле каждого года долг должен составлять часть кредита в соответствии со следующей таблицей

Месяц и год	Июль 2019	Июль 2020	Июль 2021	Июль 2022
Долг (в млн рублей)	S	$0,7S$	$0,3S$	0

Найдите наименьшее S , при котором каждая из выплат будет больше 3 млн. руб.

- 18** Найдите все значения a , при каждом из которых наименьшее значение функции

$$f(x) = x - 2|x| + |x^2 - 2(a+1)x + a^2 + 2a|$$

больше -4 ?

- 19** Вася и Петя решали каждый день задачи из сборника задач, причем каждый следующий день Вася решал на 1 задачу больше, чем в предыдущий, а Петя — на 2 задачи больше. В первый день они решили каждый хотя бы одну задачу.
- а) Могло ли получиться так, что Вася решил на одну задачу меньше, чем Петя, а Петя решил все задачи из сборника ровно за 5 дней?
 - б) Могло ли получиться так, что Вася решил на одну задачу больше, чем Петя, а Петя решил все задачи из сборника ровно за 4 дня?
 - в) Какое наименьшее количество задач могло быть в сборнике если каждый из ребят решал задачи более 6 дней, причем в первый день один из мальчиков решил на одну задачу больше чем другой?

! Проверьте, чтобы каждый ответ был записан рядом с номером соответствующего задания.

ОТВЕТЫ:

1 - 918; 2 - 8; 3 - 18; 4 - 0,375; 5 - 6; 6 - 98; 7 - 4; 8 - 10; 9 - -1; 10 - 8; 11 - 36; 12 - 8