

Единый государственный экзамен по ФИЗИКЕ

Демонстрационный вариант
контрольных измерительных материалов
единого государственного экзамена 2015 года
по физике

подготовлен Федеральным государственным бюджетным
научным учреждением

«ФЕДЕРАЛЬНЫЙ ИНСТИТУТ ПЕДАГОГИЧЕСКИХ ИЗМЕРЕНИЙ»

Единый государственный экзамен по ФИЗИКЕ

Пояснения к демонстрационному варианту контрольных измерительных материалов 2015 года по ФИЗИКЕ

При ознакомлении с демонстрационным вариантом контрольных измерительных материалов 2015 г. следует иметь в виду, что задания, включённые в демонстрационный вариант, не отражают всех вопросов содержания, которые будут проверяться с помощью вариантов КИМ в 2015 г. Полный перечень вопросов, которые могут контролироваться на едином государственном экзамене 2015 г., приведён в кодификаторе элементов содержания и требований к уровню подготовки выпускников образовательных организаций для проведения единого государственного экзамена 2015 г. по физике.

Назначение демонстрационного варианта заключается в том, чтобы дать возможность любому участнику ЕГЭ и широкой общественности составить представление о структуре будущих КИМ, количестве и форме заданий, уровне сложности. Приведённые критерии оценки выполнения заданий с развёрнутым ответом, включённые в этот вариант, дают представление о требованиях к полноте и правильности записи развёрнутого ответа.

Эти сведения позволят выпускникам выработать стратегию подготовки и сдачи ЕГЭ.

**Демонстрационный вариант
контрольных измерительных материалов
для проведения в 2015 году единого государственного экзамена
по ФИЗИКЕ**

Инструкция по выполнению работы

Для выполнения экзаменационной работы по физике отводится 3 часа 55 минут (235 минут). Работа состоит из 2 частей, включающих в себя 32 задания.

Ответы к заданиям 1, 2, 8, 9, 13, 14, 19, 20 и 23 запишите в бланк ответов № 1 в виде одной цифры, которая соответствует номеру правильного ответа.

КИМ

Ответ:

4

2	4												
---	---	--	--	--	--	--	--	--	--	--	--	--	--

 Бланк

В заданиях 3–5, 10, 15, 16, 21, 25–27 ответом является целое число или конечная десятичная дробь. Число запишите в поле ответа в тексте работы, а затем перенесите в бланк ответа № 1. Единицы измерения физических величин писать не нужно.

КИМ

Ответ: 7,5 см.

3	7	5											
---	---	---	--	--	--	--	--	--	--	--	--	--	--

 Бланк

Ответом к заданиям 6, 7, 11, 12, 17, 18, 22 и 24 является последовательность двух цифр. Ответ запишите в поле ответа в тексте работы, а затем перенесите в бланк ответа № 1.

КИМ

Ответ:

А	Б
4	1

7	4	1											
---	---	---	--	--	--	--	--	--	--	--	--	--	--

 Бланк

Ответ к заданиям с 28–32 включает в себя подробное описание всего хода выполнения задания. В бланке ответов № 2 укажите номер задания и запишите его полное решение.

При вычислениях разрешается использовать непрограммируемый калькулятор.

Все бланки ЕГЭ заполняются яркими чёрными чернилами. Допускается использование гелевой, капиллярной или перьевой ручек.

При выполнении заданий можно пользоваться черновиком. Записи в черновике не учитываются при оценивании работы.

Баллы, полученные Вами за выполненные задания, суммируются. Постарайтесь выполнить как можно больше заданий и набрать наибольшее количество баллов.

Желаем успеха!

Ниже приведены справочные данные, которые могут понадобиться Вам при выполнении работы.

Десятичные приставки

Наименование	Обозначение	Множитель	Наименование	Обозначение	Множитель
гига	Г	10 ⁹	санци	с	10 ⁻²
мега	М	10 ⁶	милли	м	10 ⁻³
кило	к	10 ³	микро	мк	10 ⁻⁶
гекто	г	10 ²	нано	н	10 ⁻⁹
деци	д	10 ⁻¹	пико	п	10 ⁻¹²

Константы

число π	π = 3,14
ускорение свободного падения на Земле	g = 10 м/с ²
гравитационная постоянная	G = 6,7 · 10 ⁻¹¹ Н·м ² /кг ²
универсальная газовая постоянная	R = 8,31 Дж/(моль·К)
постоянная Больцмана	k = 1,38 · 10 ⁻²³ Дж/К
постоянная Авогадро	N _А = 6 · 10 ²³ моль ⁻¹
скорость света в вакууме	c = 3 · 10 ⁸ м/с
коэффициент пропорциональности в законе Кулона	k = $\frac{1}{4\pi\epsilon_0} = 9 \cdot 10^9$ Н·м ² /Кл ²
модуль заряда электрона	e = 1,6 · 10 ⁻¹⁹ Кл
(элементарный электрический заряд)	
постоянная Планка	h = 6,6 · 10 ⁻³⁴ Дж·с

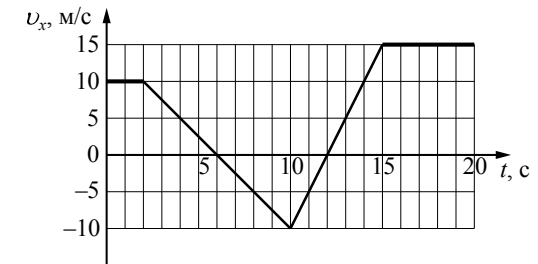
Соотношение между различными единицами			
температура			0 К = -273 °С
атомная единица массы			1 а.е.м. = 1,66·10 ⁻²⁷ кг
1 атомная единица массы эквивалентна			931,5 МэВ
1 электронвольт			1 эВ = 1,6·10 ⁻¹⁹ Дж
Масса частиц			
электрона	9,1·10 ⁻³¹ кг	≈ 5,5·10 ⁻⁴ а.е.м.	
протона	1,673·10 ⁻²⁷ кг	≈ 1,007 а.е.м.	
нейтрона	1,675·10 ⁻²⁷ кг	≈ 1,008 а.е.м.	
Плотность			
		подсолнечного масла	900 кг/м ³
воды	1000 кг/м ³	алюминия	2700 кг/м ³
древесины (сосна)	400 кг/м ³	железа	7800 кг/м ³
керосина	800 кг/м ³	ртути	13 600 кг/м ³
Удельная теплоёмкость			
воды	4,2·10 ³ Дж/(кг·К)	алюминия	900 Дж/(кг·К)
льда	2,1·10 ³ Дж/(кг·К)	меди	380 Дж/(кг·К)
железа	460 Дж/(кг·К)	чугуна	500 Дж/(кг·К)
свинца	130 Дж/(кг·К)		
Удельная теплота			
парообразования воды	2,3·10 ⁶ Дж/кг		
плавления свинца	2,5·10 ⁴ Дж/кг		
плавления льда	3,3·10 ⁵ Дж/кг		
Нормальные условия: давление – 10 ⁵ Па, температура – 0 °С			
Молярная масса			
азота	28·10 ⁻³ кг/моль	гелия	4·10 ⁻³ кг/моль
аргона	40·10 ⁻³ кг/моль	кислорода	32·10 ⁻³ кг/моль
водорода	2·10 ⁻³ кг/моль	лития	6·10 ⁻³ кг/моль
воздуха	29·10 ⁻³ кг/моль	неона	20·10 ⁻³ кг/моль
воды	18·10 ⁻³ кг/моль	углекислого газа	44·10 ⁻³ кг/моль

Часть 1

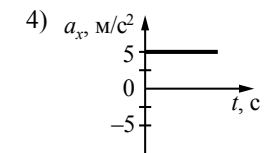
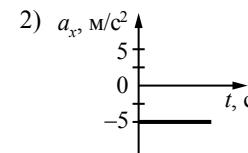
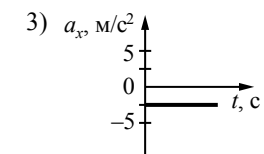
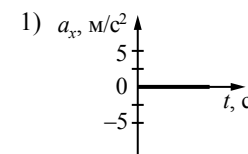
Ответами к заданиям 1–24 являются цифра, число или последовательность цифр. Запишите ответ в поле ответа в тексте работы, а затем перенесите в БЛАНК ОТВЕТОВ № 1 справа от номера соответствующего задания, начиная с первой клеточки. Цифры в последовательности записываются без пробелов, запятых и других дополнительных символов. Каждый символ пишете в отдельной клеточке в соответствии с приведёнными в бланке образцами. Единицы измерения физических величин писать не нужно.

1

На рисунке приведён график зависимости проекции скорости тела v_x от времени.



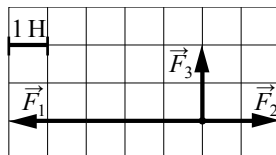
Какой из указанных ниже графиков совпадает с графиком зависимости от времени проекции ускорения этого тела a_x в интервале времени от 6 с до 10 с?



Ответ:

2

На рисунке показаны силы, действующие на материальную точку. Определите модуль равнодействующей силы (в заданном масштабе).



- 1) 6 Н
- 2) $\sqrt{13}$ Н
- 3) $2\sqrt{5}$ Н
- 4) $3\sqrt{2}$ Н

Ответ:

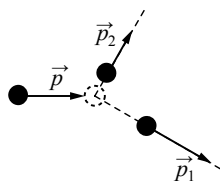
3

К пружине школьного динамометра подвешен груз массой 0,1 кг. При этом пружина удлинилась на 2,5 см. Определите удлинение пружины при добавлении ещё двух грузов по 0,1 кг.

Ответ: _____ см.

4

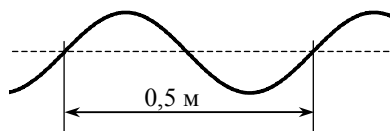
На неподвижный бильярдный шар налетел другой такой же шар. Налетевший шар имел до удара импульс $p = 0,5$ кг·м/с. После удара шары разлетелись под углом 90° так, что импульс одного $p_1 = 0,4$ кг·м/с (см. рисунок). Каков импульс другого шара после соударения?



Ответ: _____ кг · м/с.

5

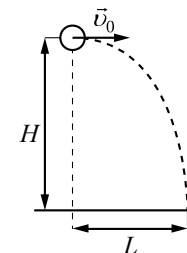
Учитель продемонстрировал опыт по распространению волны по длинному шнуру. В один из моментов времени форма шнура оказалась такой, как показано на рисунке. Скорость распространения колебаний по шнуру равна 2 м/с. Определите частоту колебаний.



Ответ: _____ Гц.

6

Шарик, брошенный горизонтально с высоты H с начальной скоростью v_0 , за время t пролетел в горизонтальном направлении расстояние L (см. рисунок). Что произойдёт с временем полёта и дальностью полёта, если на этой же установке уменьшить начальную скорость шарика в 2 раза? Сопротивлением воздуха пренебречь. Для каждой величины определите соответствующий характер её изменения:



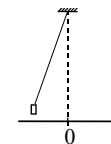
- 1) увеличится
- 2) уменьшится
- 3) не изменится

Запишите в таблицу выбранные цифры для каждой физической величины. Цифры в ответе могут повторяться.

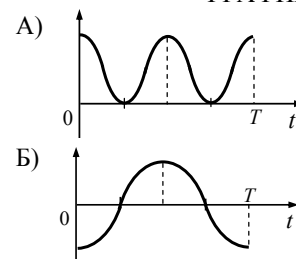
Время полёта	Дальность полёта

7

Груз, привязанный к нити, отклонили от положения равновесия и в момент $t = 0$ отпустили из состояния покоя (см. рисунок). На графиках А и Б показано изменение физических величин, характеризующих движение груза после этого. Установите соответствие между графиками и физическими величинами, зависимости которых от времени эти графики могут представлять. К каждой позиции первого столбца подберите соответствующую позицию из второго столбца.



ГРАФИКИ



ФИЗИЧЕСКИЕ ВЕЛИЧИНЫ

- 1) координата x
- 2) проекция скорости v_x
- 3) кинетическая энергия E_k
- 4) потенциальная энергия E_p

Запишите в таблицу выбранные цифры под соответствующими буквами.

Ответ:

А	Б

8 Лёд при температуре $0\text{ }^{\circ}\text{C}$ внесли в тёплое помещение. Что будет происходить с температурой льда до того, как он растает, и почему?

Температура льда

- 1) повысится, так как лёд получает тепло от окружающей среды, значит, его внутренняя энергия растёт, и температура льда повышается
- 2) не изменится, так как при плавлении лёд получает тепло от окружающей среды, а затем отдаёт его обратно
- 3) не изменится, так как вся энергия, получаемая льдом в это время, расходуется на разрушение кристаллической решётки
- 4) понизится, так как при плавлении лёд отдаёт окружающей среде некоторое количество теплоты

Ответ:

9 Внешние силы совершили над идеальным газом работу 300 Дж, и при этом внутренняя энергия газа увеличилась на 500 Дж. Выберите верное утверждение, характеризующее этот процесс.

В этом процессе газ

- 1) отдал количество теплоты 100 Дж
- 2) получил количество теплоты 200 Дж
- 3) отдал количество теплоты 400 Дж
- 4) получил количество теплоты 400 Дж

Ответ:

10 Относительная влажность воздуха в сосуде, закрытом поршнем, равна 30%. Какова будет относительная влажность, если перемещением поршня объём сосуда при неизменной температуре уменьшить в 3 раза?

Ответ: _____ %.

11 Объём сосуда с идеальным газом уменьшили вдвое, выпустив половину газа и поддерживая температуру в сосуде постоянной. Как изменились при этом давление газа в сосуде и его внутренняя энергия?

Для каждой величины определите соответствующий характер изменения:

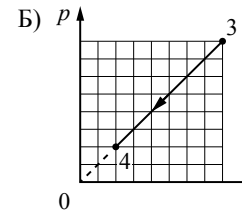
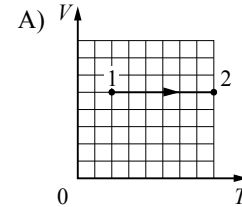
- 1) увеличилась
- 2) уменьшилась
- 3) не изменилась

Запишите в таблицу выбранные цифры для каждой физической величины. Цифры в ответе могут повторяться.

Давление газа в сосуде	Внутренняя энергия газа в сосуде

12 На рисунках приведены графики А и Б двух процессов: 1–2 и 3–4, происходящих с 1 моль гелия. Графики построены в координатах $V-T$ и $p-V$, где p – давление, V – объём и T – абсолютная температура газа. Установите соответствие между графиками и утверждениями, характеризующими изображённые на графиках процессы. К каждой позиции первого столбца подберите соответствующую позицию второго столбца.

ГРАФИКИ



УТВЕРЖДЕНИЯ

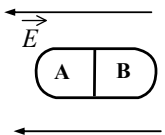
- 1) Над газом совершают работу, при этом его внутренняя энергия увеличивается.
- 2) Над газом совершают работу, при этом газ отдаёт положительное количество теплоты.
- 3) Газ получает положительное количество теплоты и совершает работу.
- 4) Газ получает положительное количество теплоты, при этом его внутренняя энергия увеличивается.

Запишите в таблицу выбранные цифры под соответствующими буквами.

Ответ:

А	Б

13 Незаряженное металлическое тело внесли в однородное электростатическое поле, а затем разделили на части А и В (см. рисунок). Какими электрическими зарядами обладают эти части после разделения?

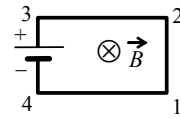


- 1) А – положительным; В – останется нейтральным
- 2) А – останется нейтральным; В – отрицательным
- 3) А – отрицательным; В – положительным
- 4) А – положительным; В – отрицательным

Ответ:

14

Электрическая цепь, состоящая из четырёх прямолинейных горизонтальных проводников (1–2, 2–3, 3–4, 4–1) и источника постоянного тока, находится в однородном магнитном поле, вектор магнитной индукции которого \vec{B} направлен вертикально вниз (см. рисунок, вид сверху). Куда направлена сила Ампера, действующая на проводник 1–2?

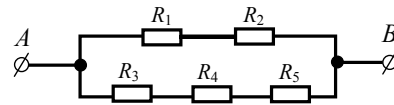


- 1) вертикально вверх \odot
- 2) вертикально вниз \otimes
- 3) горизонтально вправо \rightarrow
- 4) горизонтально влево \leftarrow

Ответ:

15

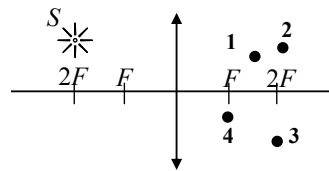
Сопротивление каждого резистора в цепи на рисунке равно 100 Ом. Чему равно напряжение на резисторе R_2 при подключении участка к источнику постоянного напряжения 12 В выводами A и B ?



Ответ: _____ В.

16

В какой из точек (1, 2, 3 или 4) находится изображение светящейся точки S (см. рисунок), создаваемое тонкой собирающей линзой с фокусным расстоянием F ?



Ответ: точка _____.

17

Частица массой m , несущая заряд q , влетает в однородное магнитное поле с индукцией B со скоростью \vec{v} и движется по окружности радиусом R . Что произойдёт с радиусом орбиты и периодом обращения частицы при уменьшении скорости её движения?

Для каждой величины определите соответствующий характер изменения:

- 1) увеличится
- 2) уменьшится
- 3) не изменится

Запишите в таблицу выбранные цифры для каждой физической величины. Цифры в ответе могут повторяться.

Радиус орбиты	Период обращения

18

Колебательный контур состоит из конденсатора ёмкостью C и катушки индуктивностью L . При электромагнитных колебаниях, происходящих в этом контуре, максимальный заряд пластины конденсатора равен q . Установите соответствие между физическими величинами и формулами, по которым их можно рассчитать. Сопротивлением контура пренебречь. К каждой позиции первого столбца подберите соответствующую позицию из второго столбца.

ФИЗИЧЕСКИЕ ВЕЛИЧИНЫ

- А) максимальная энергия электрического поля конденсатора
- Б) максимальная сила тока, протекающего через катушку

ФОРМУЛЫ

- 1) $\frac{q^2}{2C}$
- 2) $q\sqrt{\frac{C}{L}}$
- 3) $\frac{q}{\sqrt{LC}}$
- 4) $\frac{Cq^2}{2}$


Запишите в таблицу выбранные цифры под соответствующими буквами.

Ответ:

А	Б

19

На рисунке изображены схемы четырёх атомов, соответствующие модели атома Резерфорда. Чёрными точками обозначены электроны. Какая схема соответствует атому ${}^6_3\text{Li}$?



Ответ:

20

Элемент менделевий был получен при бомбардировке α -частицами ядер элемента X в соответствии с реакцией $X + {}^4_2\text{He} \longrightarrow {}^{256}_{101}\text{Md} + {}^1_0\text{n}$. Определите элемент X.

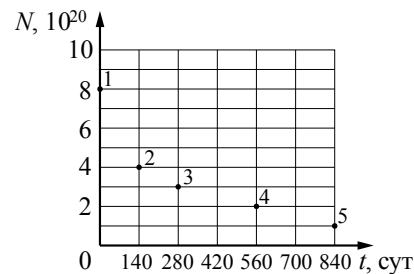
- 1) эйнштейний ${}^{253}_{99}\text{Es}$
- 2) лоуренсий ${}^{253}_{103}\text{Lr}$
- 3) фермий ${}^{252}_{100}\text{Fm}$
- 4) нобелий ${}^{254}_{102}\text{No}$

Ответ:

21

Ядра полония ${}^{210}_{84}\text{Po}$ испытывают α -распад с периодом полураспада 140 дней. В момент начала наблюдения в образце содержится $8 \cdot 10^{20}$ ядер полония. Через какую из точек, кроме точки A, пройдёт график зависимости от времени числа ещё не испытавших радиоактивного распада ядер полония?

Ответ: через точку _____.



22

Монохроматический свет с энергией фотонов E_ϕ падает на поверхность металла, вызывая фотоэффект. Напряжение, при котором фототок прекращается, равно $U_{\text{зап}}$. Как изменятся модуль запирающего напряжения $U_{\text{зап}}$ и длина волны $\lambda_{\text{кр}}$, соответствующая «красной границе» фотоэффекта, если энергия падающих фотонов E_ϕ увеличится?

Для каждой величины определите соответствующий характер изменения:

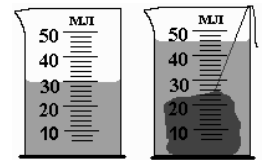
- 1) увеличится
- 2) уменьшится
- 3) не изменится

Запишите в таблицу выбранные цифры для каждой физической величины. Цифры в ответе могут повторяться.

Модуль запирающего напряжения $U_{\text{зап}}$	«Красная граница» фотоэффекта $\lambda_{\text{кр}}$

23

При измерении объёма тела его погрузили в мензурку (см. рисунок). Погрешность измерения объёма при помощи данной мензурки равна её цене деления. Какая запись для объёма тела наиболее правильная?



- 1) 46 мл \pm 1 мл
- 2) 46 мл \pm 2 мл
- 3) 16 мл \pm 1 мл
- 4) 16 мл \pm 2 мл

Ответ:

24

На рис. 1 приведена схема установки, с помощью которой исследовалась зависимость напряжения на реостате от величины протекающего тока при движении ползунка реостата **справа налево**. На рис. 2 приведены графики, построенные по результатам измерений для двух разных источников напряжения.

Выберите **два** утверждения, соответствующих результатам этих опытов, и запишите в таблицу цифры, под которыми указаны эти утверждения. Вольтметр считать идеальным.

- 1) При силе тока 12 А вольтметр показывает значение ЭДС источника.
- 2) Ток короткого замыкания равен 12 А.
- 3) Во втором опыте сопротивление резистора уменьшалось с большей скоростью.
- 4) Во втором опыте ЭДС источника в 2 раза меньше, чем в первом.
- 5) В первом опыте ЭДС источника равна 5 В.

Ответ:

--	--

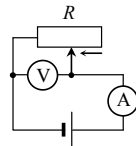


Рис. 1

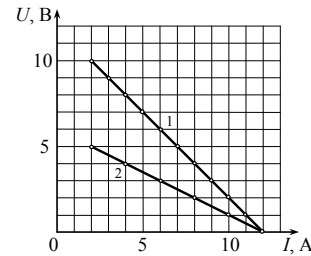


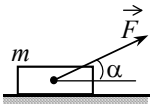
Рис. 2

Часть 2

Ответом к заданиям 25–27 является число. Запишите это число в поле ответа в тексте работы, а затем перенесите в БЛАНК ОТВЕТОВ № 1 справа от номера соответствующего задания, начиная с первой клеточки. Каждый символ пишете в отдельной клеточке в соответствии с приведёнными в бланке образцами. Единицы измерения физических величин писать не нужно.

25

Брусоч массой $m = 2$ кг движется поступательно по горизонтальной плоскости под действием постоянной силы, направленной под углом $\alpha = 30^\circ$ к горизонту (см. рисунок). Модуль этой силы $F = 12$ Н. Модуль силы трения, действующей на брусок, $F_{\text{тр}} = 2,8$ Н. Чему равен коэффициент трения между бруском и плоскостью?



Ответ: _____.

26

Кусок льда, имеющий температуру 0°C , помещён в калориметр с электронагревателем. Чтобы превратить этот лёд в воду температурой 20°C , требуется количество теплоты 100 кДж. Какая температура установится внутри калориметра, если лёд получит от нагревателя количество теплоты 75 кДж? Теплоёмкостью калориметра и теплообменом с внешней средой пренебречь.

Ответ: _____ $^\circ\text{C}$.

27

Дифракционная решётка с периодом 10^{-5} м расположена параллельно экрану на расстоянии 0,75 м от него. На решётку по нормали к ней падает пучок света с длиной волны 0,4 мкм. Максимум какого порядка будет наблюдаться на экране на расстоянии 3 см от центра дифракционной картины? Считать $\sin\alpha \approx \text{tg}\alpha$.

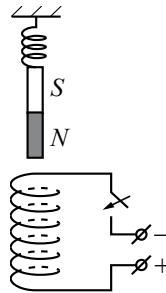
Ответ: _____.

Не забудьте перенести все ответы в бланк ответов № 1 в соответствии с инструкцией по выполнению работы.

Для записи ответов на задания этой части (28–32) используйте бланк ответов № 2. Запишите сначала номер задания (28, 29 и т. д.), а затем решение соответствующей задачи. Ответы записывайте чётко и разборчиво.

28

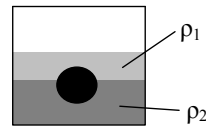
Непосредственно над неподвижно закреплённой проволочной катушкой на её оси на пружине подвешен полосовой магнит (см. рисунок). Куда начнёт двигаться магнит сразу после замыкания ключа? Ответ поясните, указав, какие физические явления и законы Вы использовали для объяснения.



Полное правильное решение каждой из задач 29–32 должно содержать законы и формулы, применение которых необходимо и достаточно для решения задачи, а также математические преобразования, расчёты с численным ответом и при необходимости рисунок, поясняющий решение.

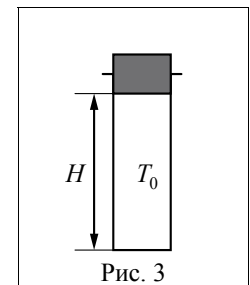
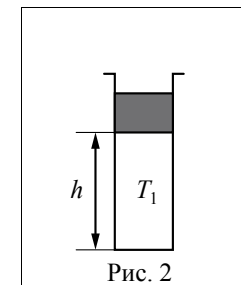
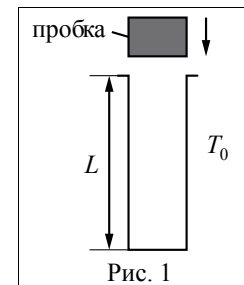
29

На границе раздела двух несмешивающихся жидкостей, имеющих плотности $\rho_1 = 900 \text{ кг/м}^3$ и $\rho_2 = 3\rho_1$, плавает шарик (см. рисунок). Какова должна быть плотность шарика ρ , чтобы выше границы раздела жидкостей была одна треть его объёма?



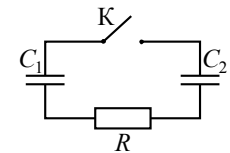
30

В камере, заполненной азотом, при температуре $T_0 = 300 \text{ К}$ находится открытый цилиндрический сосуд (рис. 1). Высота сосуда $L = 50 \text{ см}$. Сосуд плотно закрывают цилиндрической пробкой и охлаждают до температуры T_1 . В результате расстояние от дна сосуда до низа пробки становится $h = 40 \text{ см}$ (рис. 2). Затем сосуд нагревают до первоначальной температуры T_0 . Расстояние от дна сосуда до низа пробки при этой температуре становится $H = 46 \text{ см}$ (рис. 3). Чему равна температура T_1 ? Величину силы трения между пробкой и стенками сосуда считать одинаковой при движении пробки вниз и вверх. Массой пробки пренебречь. Давление азота в камере во время эксперимента поддерживается постоянным.



31

Заряженный конденсатор $C_1 = 1 \text{ мкФ}$ включён в последовательную цепь из резистора $R = 300 \text{ Ом}$, незаряженного конденсатора $C_2 = 2 \text{ мкФ}$ и разомкнутого ключа К (см. рисунок). После замыкания ключа в цепи выделяется количество теплоты $Q = 30 \text{ мДж}$. Чему равно первоначальное напряжение на конденсаторе C_1 ?



32

Значения энергии электрона в атоме водорода задаются формулой $E_n = \frac{-13,6 \text{ эВ}}{n^2}$, $n = 1, 2, 3, \dots$. При переходе с верхнего уровня энергии на нижний атом излучает фотон. Переходы с верхних уровней на уровень с $n = 1$ образуют серию Лаймана; на уровень с $n = 2$ – серию Бальмера; на уровень с $n = 3$ – серию Пашена и т.д. Найдите отношение β минимальной частоты фотона в серии Бальмера к максимальной частоте фотона в серии Пашена.

Система оценивания экзаменационной работы по физике

Задания 1–27

За правильный ответ на каждое из заданий 1–5, 8–10, 13–16, 19–21, 22, 23 и 25–27 ставится по 1 баллу. Эти задания считаются выполненными верно, если правильно указаны требуемая цифра или число.

Каждое из заданий 6, 7, 11, 12, 17, 18, 22 и 24 оценивается в 2 балла, если верно указаны оба элемента ответа; в 1 балл, если допущена одна ошибка; в 0 баллов, если оба элемента указаны неверно. Если указано более двух элементов (в том числе, возможно, и правильные) или ответ отсутствует – 0 баллов.

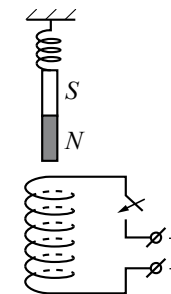
№ задания	Ответ	№ задания	Ответ
1	3	15	6
2	2	16	3
3	7,5	17	23
4	0,3	18	13
5	4	19	3
6	32	20	1
7	41	21	В
8	3	22	13
9	2	23	4
10	90	24	24 или 42
11	32	25	0,2
12	42	26	0
13	4	27	1
14	3		

КРИТЕРИИ ОЦЕНКИ ВЫПОЛНЕНИЯ ЗАДАНИЙ С РАЗВЕРНУТЫМ ОТВЕТОМ

Решения заданий 28–32 части 2 (с развёрнутым ответом) оцениваются экспертной комиссией. На основе критериев, представленных в приведённых ниже таблицах, за выполнение каждого задания в зависимости от полноты и правильности данного учащимся ответа выставляется от 0 до 3 баллов.

28

Непосредственно над неподвижно закреплённой проволочной катушкой на её оси на пружине подвешен полосовой магнит (см. рисунок). Куда начнёт двигаться магнит сразу после замыкания ключа? Ответ поясните, указав, какие физические явления и законы Вы использовали для объяснения.

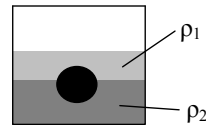


Возможное решение	
1. Когда ключ разомкнут, тока в катушке нет, магнит висит неподвижно, и пружина растянута. 2. После замыкания ключа в катушке потечёт ток (от + к – источника напряжения) и индукция магнитного поля катушки (вблизи её оси) будет направлена вниз (правило буравчика). 3. Катушка с током аналогична полосовому магниту, северный полюс которого в данном случае расположен у её нижнего торца, а южный – у верхнего. Поскольку разноименные полюса магнитов притягиваются друг к другу, значит, магнит будет притягиваться к катушке (опускаться вниз)	
Критерии оценивания выполнения задания	Баллы
Приведено полное правильное решение, включающее правильный ответ (в данном случае: <i>указано направление движения магнита</i>) и исчерпывающие верные рассуждения с прямым указанием наблюдаемых явлений и законов (в данном случае: <i>определено направление тока через катушку после замыкания ключа и направление индукции магнитного поля вблизи верхнего торца катушки с указанием на используемые правила, проведена аналогия с взаимодействием двух магнитов</i>)	3
Дан правильный ответ, и приведено объяснение, но в решении имеются один или несколько из следующих недостатков. В объяснении не указано или не используется одно из физических явлений, свойств, определений или один из законов (формул), необходимых для полного верного объяснения. (Утверждение, лежащее в основе объяснения, не подкреплено соответствующим законом, свойством, явлением, определением и т.п.) И (ИЛИ) Указаны все необходимые для объяснения явления и законы, закономерности, но в них содержится один логический недочёт.	2

<p>И (ИЛИ)</p> <p>В решении имеются лишние записи, не входящие в решение (возможно, неверные), которые не отделены от решения (не зачёркнуты; не заключены в скобки, рамку и т.п.).</p> <p>И (ИЛИ)</p> <p>В решении имеется неточность в указании на одно из физических явлений, свойств, определений, законов (формул), необходимых для полного верного объяснения</p>	
<p>Представлено решение, соответствующее одному из следующих случаев.</p> <p>Дан правильный ответ на вопрос задания, и приведено объяснение, но в нём не указаны два явления или физических закона, необходимых для полного верного объяснения.</p> <p>ИЛИ</p> <p>Указаны все необходимые для объяснения явления и законы, закономерности, но имеющиеся рассуждения, направленные на получение ответа на вопрос задания, не доведены до конца.</p> <p>ИЛИ</p> <p>Указаны все необходимые для объяснения явления и законы, закономерности, но имеющиеся рассуждения, <u>приводящие к ответу</u>, содержат ошибки.</p> <p>ИЛИ</p> <p>Указаны не все необходимые для объяснения явления и законы, закономерности, но имеются верные рассуждения, направленные на решение задачи</p>	1
<p>Все случаи решения, которые не соответствуют вышеуказанным критериям выставления оценок в 1, 2, 3 балла</p>	0

29

На границе раздела двух несмешивающихся жидкостей, имеющих плотности $\rho_1 = 900 \text{ кг/м}^3$ и $\rho_2 = 3\rho_1$, плавает шарик (см. рисунок). Какой должна быть плотность шарика ρ , чтобы выше границы раздела жидкостей была одна треть его объёма?



<p>Возможное решение</p> <p>Шарик и жидкости неподвижны в ИСО, связанной с Землёй. В этом случае, как следует из второго закона Ньютона, сила Архимеда, действующая на шарик, уравновешивает действующую на него силу тяжести: $\rho_1 V_1 g + \rho_2 V_2 g = \rho(V_1 + V_2)g$ (здесь V_1 и V_2 – соответственно объёмы шарика, находящиеся выше и ниже границы раздела). Отсюда:</p>

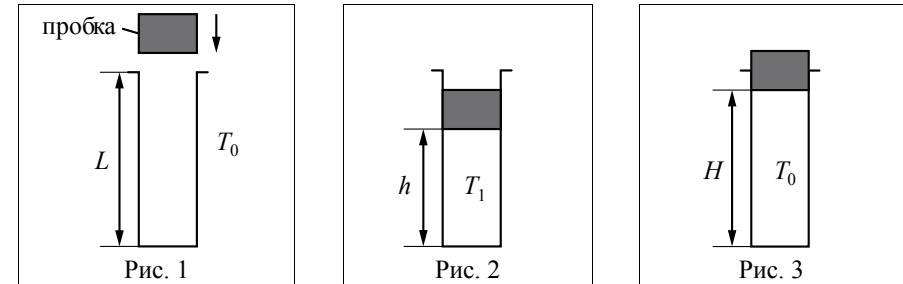
$\rho_1 \frac{V_1}{V_1 + V_2} + \rho_2 \frac{V_2}{V_1 + V_2} = \rho. \quad (1)$ <p>Доли объёма шарика, находящиеся выше и ниже границы раздела жидкостей, связаны соотношением</p> $\frac{V_1}{V_1 + V_2} + \frac{V_2}{V_1 + V_2} = 1. \quad (2)$ <p>Решая систему уравнений (1)–(2), получаем:</p> $\frac{V_1}{V_1 + V_2} = \frac{\rho_2 - \rho}{\rho_2 - \rho_1}.$ <p>По условию задачи $\frac{V_1}{V_1 + V_2} = \frac{1}{3}$, так что $\frac{\rho_2 - \rho}{\rho_2 - \rho_1} = \frac{1}{3}$, откуда</p> $\rho = \frac{1}{3}(\rho_1 + 2\rho_2) = \frac{7}{3}\rho_1 = 2100 \text{ кг/м}^3.$ <p>Ответ: $\rho = 2100 \text{ кг/м}^3$</p>	
<p>Критерии оценивания выполнения задания</p> <p>Приведено полное решение, включающее следующие элементы: I) записаны положения теории и физические законы, закономерности, <u>применение которых необходимо</u> для решения задачи выбранным способом (в данном случае: <i>закон Архимеда и второй закон Ньютона</i>); II) описаны все вновь вводимые в решении буквенные обозначения физических величин (<i>за исключением обозначений констант, указанных в варианте КИМ, обозначений величин, используемых в условии задачи и стандартных обозначений¹ величин, используемых при написании физических законов</i>); III) проведены необходимые математические преобразования и расчёты, приводящие к правильному числовому ответу (допускается решение «по частям» с промежуточными вычислениями); IV) представлен правильный ответ с указанием единиц измерения искомой величины</p>	3
<p>Правильно записаны все необходимые положения теории, физические законы, закономерности, и проведены необходимые преобразования. Но имеются один или несколько из следующих недостатков. Записи, соответствующие пункту II, представлены не в полном объёме или отсутствуют.</p>	2

¹ Здесь и далее стандартными считаются обозначения, принятые в кодификаторе элементов содержания и требований к уровню подготовки выпускников общеобразовательных учреждений для проведения единого государственного экзамена по физике.

<p>И (ИЛИ) В решении имеются лишние записи, не входящие в решение (возможно, неверные), которые не отделены от решения (не зачёркнуты; не заключены в скобки, рамку и т.п.).</p> <p>И (ИЛИ) В необходимых математических преобразованиях или вычислениях допущены ошибки, и (или) в математических преобразованиях/вычислениях пропущены логически важные шаги.</p> <p>И (ИЛИ) Отсутствует пункт IV, или в нём допущена ошибка (в том числе в записи единиц измерения величины)</p>	
<p>Представлены записи, соответствующие одному из следующих случаев.</p> <p>Представлены только положения и формулы, выражающие физические законы, применение которых необходимо для решения данной задачи, без каких-либо преобразований с их использованием, направленных на решение задачи.</p> <p>ИЛИ</p> <p>В решении отсутствует ОДНА из исходных формул, необходимая для решения данной задачи (или утверждение, лежащее в основе решения), но присутствуют логически верные преобразования с имеющимися формулами, направленные на решение задачи.</p> <p>ИЛИ</p> <p>В ОДНОЙ из исходных формул, необходимых для решения данной задачи (или в утверждении, лежащем в основе решения), допущена ошибка, но присутствуют логически верные преобразования с имеющимися формулами, направленные на решение задачи</p>	1
<p>Все случаи решения, которые не соответствуют вышеуказанным критериям выставления оценок в 1, 2, 3 балла</p>	0

30

В камере, заполненной азотом, при температуре $T_0 = 300$ К находится открытый цилиндрический сосуд (см. рис. 1). Высота сосуда $L = 50$ см. Сосуд плотно закрывают цилиндрической пробкой и охлаждают до температуры T_1 . В результате расстояние от дна сосуда до низа пробки становится равным $h = 40$ см (см. рис. 2). Затем сосуд нагревают до первоначальной температуры T_0 . Расстояние от дна сосуда до низа пробки при этой температуре становится равным $H = 46$ см (см. рис. 3). Чему равна температура T_1 ? Величину силы трения между пробкой и стенками сосуда считать одинаковой при движении пробки вниз и вверх. Массой пробки пренебречь. Давление азота в камере во время эксперимента поддерживается постоянным.



Возможное решение

- Пусть p_0 – давление азота в камере;
 p_1 – давление в сосуде в ситуации на рис. 2;
 p_2 – давление в сосуде при температуре T_0 в конце опыта;
 S – площадь горизонтального сечения сосуда.
- Параметры азота в сосуде в первоначальном состоянии и при температуре T_1 связаны равенством, следующим из уравнения Клапейрона – Менделеева:

$$\frac{p_1 h S}{T_1} = \frac{p_0 L S}{T_0}, \text{ откуда } p_1 = p_0 \cdot \frac{L}{h} \cdot \frac{T_1}{T_0}.$$
 Условие равновесия пробки при температуре T_1 :
 $p_0 S - F_{\text{тр}} - p_1 S = 0$, откуда $F_{\text{тр}} = (p_0 - p_1) S$.
- Параметры воздуха в сосуде в первоначальном и конечном состояниях тоже связаны равенством, следующим из уравнения Клапейрона – Менделеева:

$$\frac{p_2 H S}{T_0} = \frac{p_0 L S}{T_0}, \text{ откуда } p_2 = p_0 \cdot \frac{L}{H}.$$
 Условие равновесия пробки в конечном состоянии:
 $p_2 S - F_{\text{тр}} - p_0 S = 0$,
 откуда

$$p_2 = p_0 + \frac{F_{\text{тр}}}{S} = p_0 + p_0 - p_1 = 2p_0 - p_1 = 2p_0 - p_0 \cdot \frac{L}{h} \cdot \frac{T_1}{T_0}.$$
- Приравняв друг другу два выражения для p_2 , получаем равенство

$$\frac{L}{H} = 2 - \frac{L}{h} \cdot \frac{T_1}{T_0}.$$
 Отсюда: $T_1 = T_0 \cdot \frac{h}{L} \cdot \left(2 - \frac{L}{H}\right) \approx 219$ К.

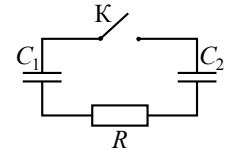
Ответ: $T_1 \approx 219$ К

Критерии оценивания выполнения задания	Баллы
<p>Приведено полное решение, включающее следующие элементы: I) записаны положения теории и физические законы, закономерности, применение которых необходимо для решения задачи выбранным способом (в данном случае: <i>уравнение Клапейрона – Менделеева; условие равновесия тела, движущегося поступательно</i>); II) описаны все вновь вводимые в решении буквенные обозначения физических величин (<i>за исключением обозначений констант, указанных в варианте КИМ, обозначений, используемых в условии задачи и стандартных обозначений величин, используемых при написании физических законов</i>); III) проведены необходимые математические преобразования и расчёты, приводящие к правильному числовому ответу (допускается решение «по частям» с промежуточными вычислениями); IV) представлен правильный ответ с указанием единиц измерения искомой величины</p>	3
<p>Правильно записаны все необходимые положения теории, физические законы, закономерности, и проведены необходимые преобразования. Но имеются один или несколько из следующих недостатков.</p> <p>Записи, соответствующие пункту II, представлены не в полном объёме или отсутствуют.</p> <p style="text-align: center;">И (ИЛИ)</p> <p>В решении имеются лишние записи, не входящие в решение (возможно, неверные), которые не отделены от решения (не зачёркнуты; не заключены в скобки, рамку и т.п.).</p> <p style="text-align: center;">И (ИЛИ)</p> <p>В необходимых математических преобразованиях или вычислениях допущены ошибки, и (или) в математических преобразованиях/вычислениях пропущены логически важные шаги.</p> <p style="text-align: center;">И (ИЛИ)</p> <p>Отсутствует пункт IV, или в нём допущена ошибка (в том числе в записи единиц измерения величины)</p>	2
<p>Представлены записи, соответствующие одному из следующих случаев.</p> <p>Представлены только положения и формулы, выражающие физические законы, применение которых необходимо для решения данной задачи, без каких-либо преобразований с их использованием, направленных на решение задачи</p>	1

ИЛИ	
<p>В решении отсутствует ОДНА из исходных формул, необходимая для решения данной задачи (или утверждение, лежащее в основе решения), но присутствуют логически верные преобразования с имеющимися формулами, направленные на решение задачи.</p> <p style="text-align: center;">ИЛИ</p> <p>В ОДНОЙ из исходных формул, необходимых для решения данной задачи (или в утверждении, лежащем в основе решения), допущена ошибка, но присутствуют логически верные преобразования с имеющимися формулами, направленные на решение задачи</p>	
<p>Все случаи решения, которые не соответствуют вышеуказанным критериям выставления оценок в 1, 2, 3 балла</p>	0

31

Заряженный конденсатор $C_1 = 1$ мкФ включён в последовательную цепь из резистора $R = 300$ Ом, незаряженного конденсатора $C_2 = 2$ мкФ и разомкнутого ключа К (см. рисунок). После замыкания ключа в цепи выделяется количество теплоты $Q = 30$ мДж. Чему равно первоначальное напряжение на конденсаторе C_1 ?



Возможное решение	
<p>1. Первоначальный заряд конденсатора $q = C_1 U$.</p> <p>2. В результате перезарядки конденсаторов после замыкания ключа их заряды равны соответственно q_1 и q_2, причём $q_1 + q_2 = C_1 U$ (1) (по закону сохранения электрического заряда).</p> <p>3. В результате перезарядки на конденсаторах устанавливаются одинаковые напряжения, так как ток в цепи прекращается и напряжение на резисторе R становится равным нулю. Поэтому</p> $\frac{q_1}{C_1} = \frac{q_2}{C_2}. \quad (2)$ <p>4. По закону сохранения энергии выделившееся в цепи количество теплоты равно разности значений энергии конденсаторов в начальном и конечном состояниях: $Q = \frac{C_1 U^2}{2} - \left(\frac{q_1^2}{2C_1} + \frac{q_2^2}{2C_2} \right)$. (3)</p> <p>Решая систему уравнений (1)–(3), получаем:</p> $U = \sqrt{\frac{2Q(C_1 + C_2)}{C_1 C_2}} = \sqrt{\frac{2 \cdot 30 \cdot 10^{-3} (10^{-6} + 2 \cdot 10^{-6})}{10^{-6} \cdot 2 \cdot 10^{-6}}} = 300 \text{ В.}$ <p>Ответ: $U = 300$ В</p>	

Критерии оценивания выполнения задания	Баллы
<p>Приведено полное решение, включающее следующие элементы:</p> <p>I) записаны положения теории и физические законы, закономерности, <u>применение которых необходимо</u> для решения задачи выбранным способом (в данном случае: <i>формула связи заряда конденсатора с напряжением, закон сохранения заряда, закон Ома для участка цепи и закон сохранения энергии</i>);</p> <p>II) описаны все вновь вводимые в решении буквенные обозначения физических величин (за исключением обозначений констант, указанных в варианте КИМ, обозначений величин, используемых в условии задачи и стандартных обозначений величин, используемых при написании физических законов);</p> <p>III) проведены необходимые математические преобразования и расчёты, приводящие к правильному числовому ответу (допускается решение «по частям» с промежуточными вычислениями);</p> <p>IV) представлен правильный ответ с указанием единиц измерения искомой величины</p>	3
<p>Правильно записаны все необходимые положения теории, физические законы, закономерности, и проведены необходимые преобразования. Но имеются один или несколько из следующих недостатков.</p> <p>Записи, соответствующие пункту II, представлены не в полном объёме или отсутствуют.</p> <p>И (ИЛИ)</p> <p>В решении имеются лишние записи, не входящие в решение (возможно, неверные), которые не отделены от решения (не зачёркнуты; не заключены в скобки, рамку и т.п.).</p> <p>И (ИЛИ)</p> <p>В необходимых математических преобразованиях или вычислениях допущены ошибки, и (или) в математических преобразованиях/вычислениях пропущены логически важные шаги.</p> <p>И (ИЛИ)</p> <p>Отсутствует пункт IV, или в нём допущена ошибка (в том числе в записи единиц измерения величины)</p>	2
<p>Представлены записи, соответствующие <u>одному</u> из следующих случаев.</p> <p>Представлены только положения и формулы, выражающие физические законы, применение которых необходимо для решения данной задачи, без каких-либо преобразований с их использованием, направленных на решение задачи</p>	1

ИЛИ	
<p>В решении отсутствует ОДНА из исходных формул, необходимая для решения данной задачи (или утверждение, лежащее в основе решения), но присутствуют логически верные преобразования с имеющимися формулами, направленные на решение задачи.</p> <p>ИЛИ</p> <p>В ОДНОЙ из исходных формул, необходимых для решения данной задачи (или в утверждении, лежащем в основе решения), допущена ошибка, но присутствуют логически верные преобразования с имеющимися формулами, направленные на решение задачи</p>	
<p>Все случаи решения, которые не соответствуют вышеуказанным критериям выставления оценок в 1, 2, 3 балла</p>	0

32

Значения энергии электрона в атоме водорода задаются формулой

$$E_n = \frac{-13,6 \text{ эВ}}{n^2}, \quad n = 1, 2, 3, \dots$$

При переходе с верхнего уровня энергии на нижний атом излучает фотон. Переходы с верхних уровней на уровень с $n = 1$ образуют серию Лаймана; на уровень с $n = 2$ – серию Бальмера; на уровень с $n = 3$ – серию Пашена и т.д. Найдите отношение β минимальной частоты фотона в серии Бальмера к максимальной частоте фотона в серии Пашена.

Возможное решение
<p>Частота фотона связана с его энергией равенством $h\nu = E$, где h – постоянная Планка. В серии Бальмера энергия фотона равна $E_n - E_2$, где $n = 3, 4, \dots$. Аналогично в серии Пашена энергия фотона равна $E_n - E_3$, где $n = 4, 5, \dots$.</p> <p>Минимальная частота фотона в серии Бальмера будет при условии перехода с 3-го уровня, максимальной частота фотона в серии Пашена будет при переходе с самого высокого ($n = \infty$) уровня.</p> <p>В серии Бальмера энергия фотона равна $E_n - E_2$, где $n = 3, 4, \dots$. Аналогично в серии Пашена энергия фотона равна $E_n - E_3$, где $n = 4, 5, \dots$.</p> <p>Поэтому</p> $\beta = \frac{E_3 - E_2}{E_\infty - E_3} = \frac{\frac{1}{2^2} - \frac{1}{3^2}}{\frac{1}{3^2} - 0} = 1,25.$ <p>Ответ: $\beta = 1,25$</p>

Критерии оценивания выполнения задания	Баллы
<p>Приведено полное решение, включающее следующие элементы: I) записаны положения теории и физические законы, закономерности, <u>применение которых необходимо</u> для решения задачи выбранным способом (в данном случае: <i>выражение для энергии фотона, постулаты Бора, условия максимальности и минимальности частот</i>); II) описаны все вновь вводимые в решении буквенные обозначения физических величин (<i>за исключением обозначений констант, указанных в варианте КИМ, обозначений величин, используемых в условии задачи и стандартных обозначений величин, используемых при написании физических законов</i>); III) проведены необходимые математические преобразования и расчёты, приводящие к правильному числовому ответу (допускается решение «по частям» с промежуточными вычислениями); IV) представлен правильный ответ</p>	3
<p>Правильно записаны все необходимые положения теории, физические законы, закономерности, и проведены необходимые преобразования. Но имеются один или несколько из следующих недостатков.</p> <p>Записи, соответствующие пункту II, представлены не в полном объёме или отсутствуют.</p> <p style="text-align: center;">И (ИЛИ)</p> <p>В решении имеются лишние записи, не входящие в решение (возможно, неверные), которые не отделены от решения (не зачёркнуты; не заключены в скобки, рамку и т.п.).</p> <p style="text-align: center;">И (ИЛИ)</p> <p>В необходимых математических преобразованиях или вычислениях допущены ошибки, и (или) в математических преобразованиях/вычислениях пропущены логически важные шаги.</p> <p style="text-align: center;">И (ИЛИ)</p> <p>Отсутствует пункт IV, или в нём допущена ошибка (в том числе в записи единиц измерения величины)</p>	2

<p>Представлены записи, соответствующие <u>одному</u> из следующих случаев.</p> <p>Представлены только положения и формулы, выражающие физические законы, применение которых необходимо для решения данной задачи, без каких-либо преобразований с их использованием, направленных на решение задачи.</p> <p style="text-align: center;">ИЛИ</p> <p>В решении отсутствует ОДНА из исходных формул, необходимая для решения данной задачи (или утверждение, лежащее в основе решения), но присутствуют логически верные преобразования с имеющимися формулами, направленные на решение задачи.</p> <p style="text-align: center;">ИЛИ</p> <p>В ОДНОЙ из исходных формул, необходимых для решения данной задачи (или в утверждении, лежащем в основе решения), допущена ошибка, но присутствуют логически верные преобразования с имеющимися формулами, направленные на решение задачи</p>	1
<p>Все случаи решения, которые не соответствуют вышеуказанным критериям выставления оценок в 1, 2, 3 балла</p>	0

В соответствии с Порядком проведения государственной итоговой аттестации по образовательным программам среднего общего образования (приказ Минобрнауки России от 26.12.2013 № 1400 зарегистрирован Минюстом России 03.02.2014 № 31205)

«61. По результатам первой и второй проверок эксперты независимо друг от друга выставляют баллы за каждый ответ на задания экзаменационной работы ЕГЭ с развернутым ответом...

62. В случае существенного расхождения в баллах, выставленных двумя экспертами, назначается третья проверка. Существенное расхождение в баллах определено в критериях оценивания по соответствующему учебному предмету.

Эксперту, осуществляющему третью проверку, предоставляется информация о баллах, выставленных экспертами, ранее проверявшими экзаменационную работу».

Если расхождение составляет 2 и более балла за выполнение любого из заданий, то третий эксперт проверяет ответы только на те задания, которые вызвали столь существенное расхождение.

Единый государственный экзамен по ФИЗИКЕ

Кодификатор

элементов содержания и требований к уровню подготовки выпускников образовательных организаций для проведения единого государственного экзамена по физике

подготовлен Федеральным государственным бюджетным научным учреждением

«ФЕДЕРАЛЬНЫЙ ИНСТИТУТ ПЕДАГОГИЧЕСКИХ ИЗМЕРЕНИЙ»

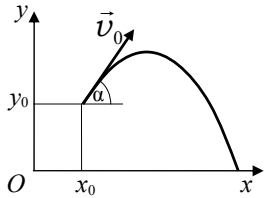
Кодификатор элементов содержания и требований к уровню подготовки выпускников образовательных организаций для проведения единого государственного экзамена по ФИЗИКЕ

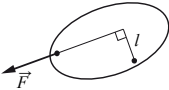
Кодификатор элементов содержания по физике и требований к уровню подготовки выпускников образовательных организаций для проведения единого государственного экзамена является одним из документов, определяющих структуру и содержание КИМ ЕГЭ. Он составлен на основе Федерального компонента государственных стандартов основного общего и среднего (полного) общего образования по физике (базовый и профильный уровни) (приказ Минобрнауки России от 05.03.2004 № 1089).

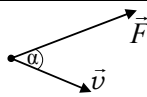
Раздел 1. Перечень элементов содержания, проверяемых на едином государственном экзамене по физике

В первом столбце указан код раздела, которому соответствуют крупные блоки содержания. Во втором столбце приведен код элемента содержания, для которого создаются проверочные задания. Крупные блоки содержания разбиты на более мелкие элементы.

Код раздела	Код контролируемого элемента	Элементы содержания, проверяемые заданиями КИМ
1		МЕХАНИКА
1.1		КИНЕМАТИКА
	1.1.1	Механическое движение. Относительность механического движения. Система отсчета
	1.1.2	<p>Материальная точка. Её радиус-вектор: $\vec{r}(t) = (x(t), y(t), z(t))$, траектория, перемещение: $\Delta\vec{r} = \vec{r}(t_2) - \vec{r}(t_1) = (\Delta x, \Delta y, \Delta z)$, путь. Сложение перемещений: $\Delta\vec{r}_1 = \Delta\vec{r}_2 + \Delta\vec{r}_0$</p> 

1.1.3	<p>Скорость материальной точки:</p> $\vec{v} = \frac{\Delta \vec{r}}{\Delta t} \Big _{\Delta t \rightarrow 0} = \vec{r}'_t = (v_x, v_y, v_z)$ $v_x = \frac{\Delta x}{\Delta t} \Big _{\Delta t \rightarrow 0} = x'_t, \text{ аналогично } v_y = y'_t, v_z = z'_t.$ <p>Сложение скоростей: $\vec{v}_1 = \vec{v}_2 + \vec{v}_0$</p>
1.1.4	<p>Ускорение материальной точки: $\vec{a} = \frac{\Delta \vec{v}}{\Delta t} \Big _{\Delta t \rightarrow 0} = \vec{v}'_t = (a_x, a_y, a_z)$</p> $a_x = \frac{\Delta v_x}{\Delta t} \Big _{\Delta t \rightarrow 0} = (v_x)'_t, \text{ аналогично } a_y = (v_y)'_t, a_z = (v_z)'_t$
1.1.5	<p>Равномерное прямолинейное движение:</p> $x(t) = x_0 + v_{0x}t$ $v_x(t) = v_{0x} = const$
1.1.6	<p>Равноускоренное прямолинейное движение:</p> $x(t) = x_0 + v_{0x}t + \frac{a_x t^2}{2}$ $v_x(t) = v_{0x} + a_x t$ $a_x = const$ $v_2^2 - v_1^2 = 2a_x(x_2 - x_1)$
1.1.7	<p>Свободное падение. Ускорение свободного падения. Движение тела, брошенного под углом α к горизонту:</p> $\begin{cases} x(t) = x_0 + v_{0x}t = x_0 + v_0 \cos \alpha \cdot t \\ y(t) = y_0 + v_{0y}t + \frac{g_y t^2}{2} = y_0 + v_0 \sin \alpha \cdot t - \frac{gt^2}{2} \\ v_x(t) = v_{0x} = v_0 \cos \alpha \\ v_y(t) = v_{0y} + g_y t = v_0 \sin \alpha - gt \\ g_x = 0 \\ g_y = -g = const \end{cases}$ 
1.1.8	<p>Движение точки по окружности.</p> <p>Угловая и линейная скорость точки: $v = \omega R, \omega = \frac{2\pi}{T} = 2\pi\nu$.</p> <p>Центростремительное ускорение точки: $a_{цс} = \frac{v^2}{R} = \omega^2 R$</p>
1.1.9	<p>Твердое тело. Поступательное и вращательное движение твердого тела</p>

1.2	ДИНАМИКА
1.2.1	Инерциальные системы отсчета. Первый закон Ньютона. Принцип относительности Галилея
1.2.2	Масса тела. Плотность вещества: $\rho = \frac{m}{V}$
1.2.3	Сила. Принцип суперпозиции сил: $\vec{F}_{\text{равнодейств}} = \vec{F}_1 + \vec{F}_2 + \dots$
1.2.4	Второй закон Ньютона: для материальной точки в ИСО $\vec{F} = m\vec{a}; \Delta \vec{p} = \vec{F}\Delta t$ при $\vec{F} = const$
1.2.5	Третий закон Ньютона для материальных точек: $\vec{F}_{12} = -\vec{F}_{21}$
1.2.6	<p>Закон всемирного тяготения: силы притяжения между точечными массами равны $F = G \frac{m_1 m_2}{R^2}$.</p> <p>Сила тяжести. Зависимость силы тяжести от высоты h над поверхностью планеты радиусом R_0:</p> $mg = \frac{GMm}{(R_0 + h)^2}$
1.2.7	<p>Движение небесных тел и их искусственных спутников.</p> <p>Первая космическая скорость: $v_{1к} = \sqrt{g_0 R_0} = \sqrt{\frac{GM}{R_0}}$</p>
1.2.8	Сила упругости. Закон Гука: $F_x = -kx$
1.2.9	<p>Сила трения. Сухое трение.</p> <p>Сила трения скольжения: $F_{тр} = \mu N$</p> <p>Сила трения покоя: $F_{тр} \leq \mu N$</p> <p>Коэффициент трения</p>
1.2.10	Давление: $p = \frac{F_{\perp}}{S}$
1.3	СТАТИКА
1.3.1	<p>Момент силы относительно оси вращения:</p> $M = Fl$ <p>где l – плечо силы относительно оси</p> 
1.3.2	<p>Условия равновесия твердого тела в ИСО:</p> $\begin{cases} M_1 + M_2 + \dots = 0 \\ \vec{F}_1 + \vec{F}_2 + \dots = 0 \end{cases}$
1.3.3	Закон Паскаля
1.3.4	Давление в жидкости, покоящейся в ИСО: $p = p_0 + \rho gh$

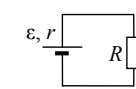
	1.3.5	Закон Архимеда: $\vec{F}_{\text{Арх}} = -\vec{P}_{\text{вытесн.}}$ если тело и жидкость покоятся в ИСО, то $F_{\text{Арх}} = \rho g V_{\text{вытесн.}}$ Условие плавания тел
1.4	ЗАКОНЫ СОХРАНЕНИЯ В МЕХАНИКЕ	
	1.4.1	Импульс материальной точки: $\vec{p} = m\vec{v}$
	1.4.2	Импульс системы тел: $\vec{p} = \vec{p}_1 + \vec{p}_2 + \dots$
	1.4.3	Закон изменения и сохранения импульса: в ИСО $\Delta\vec{p} \equiv \Delta(\vec{p}_1 + \vec{p}_2 + \dots) = \vec{F}_{1\text{внешн}} \Delta t + \vec{F}_{2\text{внешн}} \Delta t + \dots$; в ИСО $\Delta\vec{p} \equiv \Delta(\vec{p}_1 + \vec{p}_2 + \dots) = 0$, если $\vec{F}_{1\text{внешн}} + \vec{F}_{2\text{внешн}} + \dots = 0$
	1.4.4	Работа силы: на малом перемещении $A = \vec{F} \cdot \Delta\vec{r} \cdot \cos \alpha = F_x \cdot \Delta x$ 
	1.4.5	Мощность силы: $P = \frac{\Delta A}{\Delta t} \Big _{\Delta t \rightarrow 0} = F \cdot v \cdot \cos \alpha$ 
	1.4.6	Кинетическая энергия материальной точки: $E_{\text{кин}} = \frac{mv^2}{2} = \frac{p^2}{2m}$. Закон изменения кинетической энергии системы материальных точек: в ИСО $\Delta E_{\text{кин}} = A_1 + A_2 + \dots$
	1.4.7	Потенциальная энергия: для потенциальных сил $A_{12} = E_{1\text{потенц}} - E_{2\text{потенц}} = -\Delta E_{\text{потенц}}$. Потенциальная энергия тела в однородном поле тяжести: $E_{\text{потенц}} = mgh$. Потенциальная энергия деформированной пружины: $E_{\text{потенц}} = \frac{kx^2}{2}$
	1.4.8	Закон изменения и сохранения механической энергии: $E_{\text{мех}} = E_{\text{кин}} + E_{\text{потенц}}$, в ИСО $\Delta E_{\text{мех}} = A_{\text{всех непотенц. сил}}$, в ИСО $\Delta E_{\text{мех}} = 0$, если $A_{\text{всех непотенц. сил}} = 0$

1.5	МЕХАНИЧЕСКИЕ КОЛЕБАНИЯ И ВОЛНЫ	
	1.5.1	Гармонические колебания. Амплитуда и фаза колебаний. Кинематическое описание: $x(t) = A \sin(\omega t + \varphi_0)$, $v_x(t) = x'_t$, $a_x(t) = (v_x)'_t = -\omega^2 x(t)$. Динамическое описание: $ma_x = -kx$, где $k = m\omega^2$. Энергетическое описание (закон сохранения механической энергии): $\frac{m\omega^2}{2} \frac{x^2}{2} + \frac{kx^2}{2} = \frac{mv_{\text{max}}^2}{2} = \frac{kA^2}{2} = \text{const}$. Связь амплитуды колебаний исходной величины с амплитудами колебаний её скорости и ускорения: $v_{\text{max}} = \omega A$, $a_{\text{max}} = \omega^2 A$
	1.5.2	Период и частота колебаний: $T = \frac{2\pi}{\omega} = \frac{1}{\nu}$. Период малых свободных колебаний математического маятника: $T = 2\pi \sqrt{\frac{l}{g}}$. Период свободных колебаний пружинного маятника: $T = 2\pi \sqrt{\frac{m}{k}}$
	1.5.3	Вынужденные колебания. Резонанс. Резонансная кривая
	1.5.4	Поперечные и продольные волны. Скорость распространения и длина волны: $\lambda = vT = \frac{v}{\nu}$. Интерференция и дифракция волн
	1.5.5	Звук. Скорость звука
2	МОЛЕКУЛЯРНАЯ ФИЗИКА. ТЕРМОДИНАМИКА	
2.1	МОЛЕКУЛЯРНАЯ ФИЗИКА	
	2.1.1	Модели строения газов, жидкостей и твердых тел
	2.1.2	Тепловое движение атомов и молекул вещества
	2.1.3	Взаимодействие частиц вещества
	2.1.4	Диффузия. Броуновское движение
	2.1.5	Модель идеального газа в МКТ: частицы газа движутся хаотически и не взаимодействуют друг с другом
	2.1.6	Связь между давлением и средней кинетической энергией поступательного теплового движения молекул идеального газа (основное уравнение МКТ): $p = \frac{1}{3} m_0 n \overline{v^2} = \frac{2}{3} n \cdot \left(\frac{m_0 \overline{v^2}}{2} \right) = \frac{2}{3} n \cdot \overline{\epsilon_{\text{пост}}}$

2.1.7	Абсолютная температура: $T = t^{\circ} + 273\text{K}$
2.1.8	Связь температуры газа со средней кинетической энергией поступательного теплового движения его частиц: $\overline{\varepsilon_{\text{пост}}} = \left(\frac{m_0 v^2}{2} \right) = \frac{3}{2} kT$
2.1.9	Уравнение $p = nkT$
2.1.10	Модель идеального газа в термодинамике: { Уравнение Менделеева-Клапейрона { Выражение для внутренней энергии Уравнение Менделеева-Клапейрона (применимые формы записи): $pV = \frac{m}{\mu} RT = \nu RT = NkT, \quad p = \frac{\rho RT}{\mu}$ Выражение для внутренней энергии одноатомного идеального газа (применимые формы записи): $U = \frac{3}{2} \nu RT = \frac{3}{2} NkT = \frac{3}{2} \frac{m}{\mu} RT = \frac{3}{2} pV = \nu c_v T = C_{VN} T$
2.1.11	Закон Дальтона для давления смеси разреженных газов: $p = p_1 + p_2 + \dots$
2.1.12	Изопроцессы в разреженном газе с постоянным числом частиц N (с постоянным количеством вещества ν): изотерма ($T = \text{const}$): $pV = \text{const}$, изохора ($V = \text{const}$): $\frac{p}{T} = \text{const}$, изобара ($p = \text{const}$): $\frac{V}{T} = \text{const}$. Графическое представление изопроцессов на pV -, pT - и VT -диаграммах
2.1.13	Насыщенные и ненасыщенные пары. Качественная зависимость плотности и давления насыщенного пара от температуры, их независимость от объёма насыщенного пара
2.1.14	Влажность воздуха. Относительная влажность: $\varphi = \frac{p_{\text{пара}}(T)}{p_{\text{насыщ. пара}}(T)} = \frac{\rho_{\text{пара}}(T)}{\rho_{\text{насыщ. пара}}(T)}$
2.1.15	Изменение агрегатных состояний вещества: испарение и конденсация, кипение жидкости
2.1.16	Изменение агрегатных состояний вещества: плавление и кристаллизация
2.1.17	Преобразование энергии в фазовых переходах

2.2	ТЕРМОДИНАМИКА
2.2.1	Тепловое равновесие и температура
2.2.2	Внутренняя энергия
2.2.3	Теплопередача как способ изменения внутренней энергии без совершения работы. Конвекция, теплопроводность, излучение
2.2.4	Количество теплоты. Удельная теплоемкость вещества c : $Q = cm\Delta T$.
2.2.5	Удельная теплота парообразования r : $Q = rm$. Удельная теплота плавления λ : $Q = \lambda m$. Удельная теплота сгорания топлива q : $Q = qm$
2.2.6	Элементарная работа в термодинамике: $A = p\Delta V$. Вычисление работы по графику процесса на pV -диаграмме
2.2.7	Первый закон термодинамики: $Q_{12} = \Delta U_{12} + A_{12} = (U_2 - U_1) + A_{12}$
2.2.8	Второй закон термодинамики, необратимость
2.2.9	Принципы действия тепловых машин. КПД: $\eta = \frac{A_{\text{за цикл}}}{Q_{\text{нагр}}} = \frac{Q_{\text{нагр}} - Q_{\text{хол}} }{Q_{\text{нагр}}} = 1 - \frac{ Q_{\text{хол}} }{Q_{\text{нагр}}}$
2.2.10	Максимальное значение КПД. Цикл Карно $\max \eta = \eta_{\text{Карно}} = \frac{T_{\text{нагр}} - T_{\text{хол}}}{T_{\text{нагр}}} = 1 - \frac{T_{\text{хол}}}{T_{\text{нагр}}}$
2.2.11	Уравнение теплового баланса: $Q_1 + Q_2 + Q_3 + \dots = 0$.
3	ЭЛЕКТРОДИНАМИКА
3.1	ЭЛЕКТРИЧЕСКОЕ ПОЛЕ
3.1.1	Электризация тел и её проявления. Электрический заряд. Два вида заряда. Элементарный электрический заряд. Закон сохранения электрического заряда
3.1.2	Взаимодействие зарядов. Точечные заряды. Закон Кулона: $F = k \frac{ q_1 \cdot q_2 }{r^2} = \frac{1}{4\pi\epsilon_0} \cdot \frac{ q_1 \cdot q_2 }{r^2}$
3.1.3	Электрическое поле. Его действие на электрические заряды
3.1.4	Напряжённость электрического поля: $\vec{E} = \frac{\vec{F}}{q_{\text{пробный}}}$. Поле точечного заряда: $E_r = k \frac{q}{r^2}$, однородное поле: $\vec{E} = \text{const}$. Картины линий этих полей
3.1.5	Принцип суперпозиции электрических полей: $\vec{E} = \vec{E}_1 + \vec{E}_2 + \dots, \quad \varphi = \varphi_1 + \varphi_2 + \dots$

3.1.6	<p>Потенциальность электростатического поля. Разность потенциалов и напряжение. $A_{12} = q(\varphi_1 - \varphi_2) = -q\Delta\varphi = qU$ Потенциальная энергия заряда в электростатическом поле: $W = q\varphi$.</p> <p>Потенциал электростатического поля: $\varphi = \frac{W}{q}$.</p> <p>Связь напряжённости поля и разности потенциалов для однородного электростатического поля: $U = Ed$.</p>
3.1.7	<p>Проводники в электростатическом поле. Условие равновесия зарядов: внутри проводника $\vec{E} = 0$, внутри и на поверхности проводника $\varphi = \text{const}$.</p>
3.1.8	<p>Диэлектрики в электростатическом поле. Диэлектрическая проницаемость вещества ϵ</p>
3.1.9	<p>Конденсатор. Электроёмкость конденсатора: $C = \frac{q}{U}$.</p> <p>Электроёмкость плоского конденсатора: $C = \frac{\epsilon\epsilon_0 S}{d} = \epsilon C_0$</p>
3.1.10	<p>Параллельное соединение конденсаторов: $q = q_1 + q_2 + \dots$, $U_1 = U_2 = \dots$, $C_{\text{паралл}} = C_1 + C_2 + \dots$ Последовательное соединение конденсаторов: $U = U_1 + U_2 + \dots$, $q_1 = q_2 = \dots$, $\frac{1}{C_{\text{послед}}} = \frac{1}{C_1} + \frac{1}{C_2} + \dots$</p>
3.1.11	<p>Энергия заряженного конденсатора: $W_C = \frac{qU}{2} = \frac{CU^2}{2} = \frac{q^2}{2C}$</p>
3.2	<p>ЗАКОНЫ ПОСТОЯННОГО ТОКА</p>
3.2.1	<p>Сила тока: $I = \frac{\Delta q}{\Delta t} \Big _{\Delta t \rightarrow 0}$. Постоянный ток: $I = \text{const}$.</p> <p>Для постоянного тока $q = It$</p>
3.2.2	<p>Условия существования электрического тока. Напряжение U и ЭДС ϵ</p>
3.2.3	<p>Закон Ома для участка цепи: $I = \frac{U}{R}$</p>
3.2.4	<p>Электрическое сопротивление. Зависимость сопротивления однородного проводника от его длины и сечения. Удельное сопротивление вещества. $R = \rho \frac{l}{S}$</p>
3.2.5	<p>Источники тока. ЭДС и внутреннее сопротивление источника тока. $\epsilon = \frac{A_{\text{сторонних сил}}}{q}$</p>

3.2.6	<p>Закон Ома для полной (замкнутой) электрической цепи: $\epsilon = IR + Ir$, откуда $I = \frac{\epsilon}{R + r}$.</p> 
3.2.7	<p>Параллельное соединение проводников: $I = I_1 + I_2 + \dots$, $U_1 = U_2 = \dots$, $\frac{1}{R_{\text{паралл}}} = \frac{1}{R_1} + \frac{1}{R_2} + \dots$ Последовательное соединение проводников: $U = U_1 + U_2 + \dots$, $I_1 = I_2 = \dots$, $R_{\text{послед}} = R_1 + R_2 + \dots$</p>
3.2.8	<p>Работа электрического тока: $A = IUt$ Закон Джоуля–Ленца: $Q = I^2 Rt$</p>
3.2.9	<p>Мощность электрического тока: $P = \frac{\Delta A}{\Delta t} \Big _{\Delta t \rightarrow 0} = IU$.</p> <p>Тепловая мощность, выделяемая на резисторе: $P = I^2 R = \frac{U^2}{R}$.</p> <p>Мощность источника тока: $P_\epsilon = \frac{\Delta A_{\text{ст. сил}}}{\Delta t} \Big _{\Delta t \rightarrow 0} = \epsilon I$</p>
3.2.10	<p>Свободные носители электрических зарядов в проводниках. Механизмы проводимости твёрдых металлов, растворов и расплавов электролитов, газов. Полупроводники. Полупроводниковый диод</p>
3.3	<p>МАГНИТНОЕ ПОЛЕ</p>
3.3.1	<p>Механическое взаимодействие магнитов. Магнитное поле. Вектор магнитной индукции. Принцип суперпозиции магнитных полей: $\vec{B} = \vec{B}_1 + \vec{B}_2 + \dots$. Линии магнитного поля. Картина линий поля полосового и подковообразного постоянных магнитов</p>
3.3.2	<p>Опыт Эрстеда. Магнитное поле проводника с током. Картина линий поля длинного прямого проводника и замкнутого кольцевого проводника, катушки с током.</p>
3.3.3	<p>Сила Ампера, её направление и величина: $F_A = IBl \sin \alpha$, где α – угол между направлением проводника и вектором \vec{B}</p>
3.3.4	<p>Сила Лоренца, её направление и величина: $F_{\text{Лор}} = q vB \sin \alpha$, где α – угол между векторами \vec{v} и \vec{B}. Движение заряженной частицы в однородном магнитном поле</p>

3.4	ЭЛЕКТРОМАГНИТНАЯ ИНДУКЦИЯ	
3.4.1	Поток вектора магнитной индукции: $\Phi = B_n S = BS \cos \alpha$	
3.4.2	Явление электромагнитной индукции. ЭДС индукции	
3.4.3	Закон электромагнитной индукции Фарадея: $\varepsilon_i = - \frac{\Delta \Phi}{\Delta t} \Big _{\Delta t \rightarrow 0} = -\Phi'_t$	
3.4.4	ЭДС индукции в прямом проводнике длиной l , движущемся со скоростью \vec{v} в однородном магнитном поле \vec{B} : $ \varepsilon_i = Blv \sin \alpha$, где α – угол между векторами \vec{l} и \vec{v} , если $\vec{l} \perp \vec{B}$ и $\vec{v} \perp \vec{B}$	
3.4.5	Правило Ленца	
3.4.6	Индуктивность: $L = \frac{\Phi}{I}$, или $\Phi = LI$. Самоиндукция. ЭДС самоиндукции: $\varepsilon_{si} = -L \frac{\Delta I}{\Delta t} \Big _{\Delta t \rightarrow 0} = -LI'_t$	
3.4.7	Энергия магнитного поля катушки с током: $W_L = \frac{LI^2}{2}$	
3.5	ЭЛЕКТРОМАГНИТНЫЕ КОЛЕБАНИЯ И ВОЛНЫ	
3.5.1	Колебательный контур. Свободные электромагнитные колебания в идеальном колебательном контуре: $\begin{cases} q(t) = q_{max} \sin(\omega t + \varphi_0) \\ I(t) = q'_t = \omega q_{max} \cos(\omega t + \varphi_0) = I_{max} \cos(\omega t + \varphi_0) \end{cases}$ Формула Томсона: $T = 2\pi\sqrt{LC}$, откуда $\omega = \frac{2\pi}{T} = \frac{1}{\sqrt{LC}}$. Связь амплитуды заряда конденсатора с амплитудой силы тока в колебательном контуре: $q_{max} = \frac{I_{max}}{\omega}$.	
3.5.2	Закон сохранения энергии в колебательном контуре: $\frac{CU^2}{2} + \frac{LI^2}{2} = \frac{CU_{max}^2}{2} = \frac{LI_{max}^2}{2} = const$	
3.5.3	Вынужденные электромагнитные колебания. Резонанс	
3.5.4	Переменный ток. Производство, передача и потребление электрической энергии	

3.5.5	Свойства электромагнитных волн. Взаимная ориентация векторов в электромагнитной волне в вакууме: $\vec{E} \perp \vec{B} \perp \vec{c}$.	
3.5.6	Шкала электромагнитных волн. Применение электромагнитных волн в технике и быту	
3.6	ОПТИКА	
3.6.1	Прямолинейное распространение света в однородной среде. Луч света	
3.6.2	Законы отражения света.	
3.6.3	Построение изображений в плоском зеркале	
3.6.4	Законы преломления света. Преломление света: $n_1 \sin \alpha = n_2 \sin \beta$. Абсолютный показатель преломления: $n_{abs} = \frac{c}{v}$. Относительный показатель преломления: $n_{отн} = \frac{n_2}{n_1} = \frac{v_1}{v_2}$. Ход лучей в призме. Соотношение частот и длин волн при переходе монохроматического света через границу раздела двух оптических сред: $v_1 = v_2$, $n_1 \lambda_1 = n_2 \lambda_2$	
3.6.5	Полное внутреннее отражение. Предельный угол полного внутреннего отражения: $\sin \alpha_{пр} = \frac{1}{n_{отн}} = \frac{n_1}{n_2}$	
3.6.6	Собирающие и рассеивающие линзы. Тонкая линза. Фокусное расстояние и оптическая сила тонкой линзы: $D = \frac{1}{F}$	
3.6.7	Формула тонкой линзы: $\frac{1}{d} + \frac{1}{f} = \frac{1}{F}$. Увеличение, даваемое линзой: $\Gamma = \frac{h}{H} = \frac{f}{d}$	
3.6.8	Ход луча, прошедшего линзу под произвольным углом к её главной оптической оси. Построение изображений точки и отрезка прямой в собирающих и рассеивающих линзах и их системах	
3.6.9	Фотоаппарат как оптический прибор. Глаз как оптическая система	

	3.6.10	Интерференция света. Когерентные источники. Условия наблюдения максимумов и минимумов в интерференционной картине от двух синфазных когерентных источников максимумы: $\Delta = 2m \frac{\lambda}{2}, m = 0, \pm 1, \pm 2, \pm 3, \dots$ минимумы: $\Delta = (2m + 1) \frac{\lambda}{2}, m = 0, \pm 1, \pm 2, \pm 3, \dots$
	3.6.11	Дифракция света. Дифракционная решётка. Условие наблюдения главных максимумов при нормальном падении монохроматического света с длиной волны λ на решётку с периодом d : $d \sin \varphi_m = m\lambda, m = 0, \pm 1, \pm 2, \pm 3, \dots$
	3.6.12	Дисперсия света
4	ОСНОВЫ СПЕЦИАЛЬНОЙ ТЕОРИИ ОТНОСИТЕЛЬНОСТИ	
	4.1	Инвариантность модуля скорости света в вакууме. Принцип относительности Эйнштейна
	4.2	Энергия свободной частицы: $E = \frac{mc^2}{\sqrt{1 - \frac{v^2}{c^2}}}$. Импульс частицы: $\vec{p} = \frac{m\vec{v}}{\sqrt{1 - \frac{v^2}{c^2}}}$.
	4.3	Связь массы и энергии свободной частицы: $E^2 - (pc)^2 = (mc^2)^2$. Энергия покоя свободной частицы: $E_0 = mc^2$
5	КВАНТОВАЯ ФИЗИКА	
5.1	КОРПУСКУЛЯРНО-ВОЛНОВОЙ ДУАЛИЗМ	
	5.1.1	Гипотеза М. Планка о квантах. Формула Планка: $E = h\nu$
	5.1.2	Фотоны. Энергия фотона: $E = h\nu = \frac{hc}{\lambda} = pc$. Импульс фотона: $p = \frac{E}{c} = \frac{h\nu}{c} = \frac{h}{\lambda}$
	5.1.3	Фотоэффект. Опыты А.Г. Столетова. Законы фотоэффекта
	5.1.4	Уравнение Эйнштейна для фотоэффекта: $E_{\text{фотона}} = A_{\text{выхода}} + E_{\text{кин max}}$, где $E_{\text{фотона}} = h\nu = \frac{hc}{\lambda}$, $A_{\text{выхода}} = h\nu_{\text{кр}} = \frac{hc}{\lambda_{\text{кр}}}$, $E_{\text{кин max}} = \frac{mv_{\text{max}}^2}{2} = eU_{\text{зап}}$

	5.1.5	Волновые свойства частиц. Волны де Бройля. Длина волны де Бройля движущейся частицы: $\lambda = \frac{h}{p} = \frac{h}{mv}$. Корпускулярно-волновой дуализм. Дифракция электронов на кристаллах
5.2	ФИЗИКА АТОМА	
	5.2.1	Планетарная модель атома
	5.2.2	Постулаты Бора. Излучение и поглощение фотонов при переходе атома с одного уровня энергии на другой: $h\nu_{mn} = \frac{hc}{\lambda_{mn}} = E_n - E_m $
	5.2.3	Линейчатые спектры. Спектр уровней энергии атома водорода: $E_n = \frac{-13,6 \text{ эВ}}{n^2}, n = 1, 2, 3, \dots$
	5.2.4	Лазер
5.3	ФИЗИКА АТОМНОГО ЯДРА	
	5.3.1	Нуклонная модель ядра Гейзенберга–Иваненко. Заряд ядра. Массовое число ядра. Изотопы
	5.3.2	Энергия связи нуклонов в ядре. Ядерные силы
	5.3.3	Дефект массы ядра ${}^A_Z X$: $\Delta m = Z \cdot m_p + (A - Z) \cdot m_n - m_{\text{ядра}}$
	5.3.4	Радиоактивность. Альфа-распад: ${}^A_Z X \rightarrow {}^{A-4}_{Z-2} Y + {}^4_2 \text{He}$. Бета-распад. Электронный β -распад: ${}^A_Z X \rightarrow {}^A_{Z+1} Y + {}^0_{-1} e + \tilde{\nu}_e$. Позитронный β -распад: ${}^A_Z X \rightarrow {}^A_{Z-1} Y + {}^0_{+1} \tilde{e} + \nu_e$. Гамма-излучение
	5.3.5	Закон радиоактивного распада: $N(t) = N_0 \cdot 2^{-\frac{t}{T}}$
	5.3.6	Ядерные реакции. Деление и синтез ядер

Раздел 2. Перечень требований к уровню подготовки, проверяемому на едином государственном экзамене по физике

Код требования	Требования к уровню подготовки выпускников, освоение которых проверяется на ЕГЭ
1	<i>Знать/Понимать:</i>
1.1	смысл физических понятий
1.2	смысл физических величин
1.3	смысл физических законов, принципов, постулатов
2	<i>Уметь:</i>
2.1	описывать и объяснять:
2.1.1	физические явления, физические явления и свойства тел
2.1.2	результаты экспериментов
2.2	описывать фундаментальные опыты, оказавшие существенное влияние на развитие физики
2.3	приводить примеры практического применения физических знаний, законов физики
2.4	определять характер физического процесса по графику, таблице, формуле; продукты ядерных реакций на основе законов сохранения электрического заряда и массового числа
2.5	2.5.1 отличать гипотезы от научных теорий; делать выводы на основе экспериментальных данных; приводить примеры, показывающие, что: наблюдения и эксперимент являются основой для выдвижения гипотез и теорий, позволяют проверить истинность теоретических выводов; физическая теория дает возможность объяснять известные явления природы и научные факты, предсказывать еще не известные явления;
	2.5.2 приводить примеры опытов, иллюстрирующих, что: наблюдения и эксперимент служат основой для выдвижения гипотез и построения научных теорий; эксперимент позволяет проверить истинность теоретических выводов; физическая теория дает возможность объяснять явления природы и научные факты; физическая теория позволяет предсказывать еще не известные явления и их особенности; при объяснении природных явлений используются физические модели; один и тот же природный объект или явление можно исследовать на основе использования разных моделей; законы физики и физические теории имеют свои определенные границы применимости
	2.5.3 измерять физические величины, представлять результаты измерений с учетом их погрешностей
2.6	применять полученные знания для решения физических задач

3	<i>Использовать приобретенные знания и умения в практической деятельности и повседневной жизни для:</i>	
	3.1	обеспечения безопасности жизнедеятельности в процессе использования транспортных средств, бытовых электроприборов, средств радио- и телекоммуникационной связи; оценки влияния на организм человека и другие организмы загрязнения окружающей среды; рационального природопользования и охраны окружающей среды;
	3.2	определения собственной позиции по отношению к экологическим проблемам и поведению в природной среде

Единый государственный экзамен по ФИЗИКЕ

Спецификация
контрольных измерительных материалов для
проведения в 2015 году единого государственного
экзамена по физике

подготовлен Федеральным государственным бюджетным
научным учреждением

«ФЕДЕРАЛЬНЫЙ ИНСТИТУТ ПЕДАГОГИЧЕСКИХ ИЗМЕРЕНИЙ»

Спецификация
контрольных измерительных материалов
для проведения в 2015 году единого государственного экзамена
по ФИЗИКЕ

1. Назначение КИМ ЕГЭ

Единый государственный экзамен (далее – ЕГЭ) представляет собой форму объективной оценки качества подготовки лиц, освоивших образовательные программы среднего общего образования, с использованием заданий стандартизированной формы (контрольных измерительных материалов).

ЕГЭ проводится в соответствии с Федеральным законом от 29.12.2012 г. № 273-ФЗ «Об образовании в Российской Федерации».

Контрольные измерительные материалы позволяют установить уровень освоения выпускниками Федерального компонента государственного образовательного стандарта среднего (полного) общего образования по физике, базовый и профильный уровни.

Результаты единого государственного экзамена по физике признаются образовательными организациями среднего профессионального образования и образовательными организациями высшего профессионального образования как результаты вступительных испытаний по физике.

2. Документы, определяющие содержание КИМ ЕГЭ

Содержание экзаменационной работы определяется Федеральным компонентом государственного стандарта среднего (полного) общего образования по физике, базовый и профильный уровни (приказ Минобрнауки России от 05.03.2004 № 1089).

3. Подходы к отбору содержания, разработке структуры КИМ ЕГЭ

Каждый вариант экзаменационной работы включает в себя контролируемые элементы содержания из всех разделов школьного курса физики, при этом для каждого раздела предлагаются задания всех таксономических уровней. Наиболее важные с точки зрения продолжения образования в высших учебных заведениях содержательные элементы контролируются в одном и том же варианте заданиями разных уровней сложности. Количество заданий по тому или иному разделу определяется его содержательным наполнением и пропорционально учебному времени, отводимому на его изучение в соответствии с примерной программой по физике. Различные планы, по которым конструируются экзаменационные варианты, строятся по принципу содержательного дополнения так, что в целом все серии вариантов обеспечивают диагностику освоения всех включенных в кодификатор содержательных элементов.

Приоритетом при конструировании КИМ является необходимость проверки предусмотренных стандартом видов деятельности (с учетом ограничений в условиях массовой письменной проверки знаний и умений обучающихся): усвоение понятийного аппарата курса физики, овладение методологическими

знаниями, применение знаний при объяснении физических явлений и решении задач. Овладение умениями по работе с информацией физического содержания проверяется опосредованно при использовании различных способов представления информации в текстах (графики, таблицы, схемы и схематические рисунки).

Наиболее важным видом деятельности с точки зрения успешного продолжения образования в вузе является решение задач. Каждый вариант включает в себя задачи по всем разделам разного уровня сложности, позволяющие проверить умение применять физические законы и формулы как в типовых учебных ситуациях, так и в нетрадиционных ситуациях, требующих проявления достаточно высокой степени самостоятельности при комбинировании известных алгоритмов действий или создании собственного плана выполнения задания.

Объективность проверки заданий с развернутым ответом обеспечивается едиными критериями оценивания, участием двух независимых экспертов, оценивающих одну работу, возможностью назначения третьего эксперта и наличием процедуры апелляции.

Единый государственный экзамен по физике является экзаменом по выбору выпускников и предназначен для дифференциации при поступлении в высшие учебные заведения. Для этих целей в работу включены задания трех уровней сложности. Выполнение заданий базового уровня сложности позволяет оценить уровень освоения наиболее значимых содержательных элементов курса физики средней школы и овладение наиболее важными видами деятельности. Среди заданий базового уровня выделяются задания, содержание которых соответствует стандарту базового уровня. Минимальное количество баллов ЕГЭ по физике, подтверждающее освоение выпускником программы среднего (полного) общего образования по физике, устанавливается исходя из требований освоения стандарта базового уровня. Использование в экзаменационной работе заданий повышенного и высокого уровней сложности позволяет оценить степень подготовленности учащегося к продолжению образования в вузе.

4. Структура КИМ ЕГЭ

Каждый вариант экзаменационной работы состоит из 2 частей и включает в себя 32 задания, различающихся формой и уровнем сложности (таблица 1).

Часть 1 содержит 24 задания, из которых 9 заданий с выбором и записью номера правильного ответа и 15 заданий с кратким ответом, в том числе задания с самостоятельной записью ответа в виде числа, а также задания на установление соответствия и множественный выбор, в которых ответы необходимо записать в виде последовательности цифр.

Часть 2 содержит 8 заданий, объединенных общим видом деятельности – решение задач. Из них 3 задания с кратким ответом (25–27) и 5 заданий (28–32), для которых необходимо привести развернутый ответ.

Таблица 1. Распределение заданий экзаменационной работы по частям работы

№	Часть работы	Количество заданий	Максимальный первичный балл	Процент максимального первичного балла за задания данной части от максимального первичного балла за всю работу, равного 50	Тип заданий
1	Часть 1	24	32	64	С кратким ответом
2	Часть 2	8	18	36	С кратким ответом и развернутым ответом
Итого		32	50	100	

Всего для формирования КИМ ЕГЭ 2015 г. используется несколько планов. В части 1 для обеспечения более доступного восприятия информации задания 1–22 группируются исходя из тематической принадлежности заданий: механика, молекулярная физика, электродинамика, квантовая физика. В части 2 задания группируются в зависимости от формы представления заданий и в соответствии с тематической принадлежностью.

5. Распределение заданий КИМ по содержанию, видам умений и способам действий

При разработке содержания КИМ учитывается необходимость проверки усвоения элементов знаний, представленных в разделе 1 кодификатора. В экзаменационной работе контролируются элементы содержания из следующих разделов (тем) курса физики.

1. **Механика** (кинематика, динамика, статика, законы сохранения в механике, механические колебания и волны).
2. **Молекулярная физика** (молекулярно-кинетическая теория, термодинамика).
3. **Электродинамика и основы СТО** (электрическое поле, постоянный ток, магнитное поле, электромагнитная индукция, электромагнитные колебания и волны, оптика, основы СТО).
4. **Квантовая физика** (корпускулярно-волновой дуализм, физика атома, физика атомного ядра).

Общее количество заданий в экзаменационной работе по каждому из разделов приблизительно пропорционально его содержательному наполнению и учебному времени, отводимому на изучение данного раздела в школьном курсе физики. В таблице 2 дано распределение заданий по разделам. Задания части 2 (задания 28–32) проверяют, как правило, комплексное использование знаний и умений из различных разделов курса физики.

Таблица 2. Распределение заданий по основным содержательным разделам (темам) курса физики

Раздел курса физики, включенный в экзаменационную работу	Количество заданий		
	Вся работа	Часть 1	Часть 2
Механика	9–10	7–8	2
Молекулярная физика	7–8	5–6	2
Электродинамика	9–10	6–7	3
Квантовая физика	5–6	4–5	1
Итого	32	24	8

Экзаменационная работа разрабатывается исходя из необходимости проверки умений и способов действий, отраженных в разделе 2 кодификатора. В таблице 3 приведено распределение заданий по видам умений и способам действий.

Таблица 3. Распределение заданий по видам умений и способам действий

Основные умения и способы действий	Количество заданий		
	Вся работа	Часть 1	Часть 2
Требования 1.1–1.3 Знать/понимать смысл физических понятий, величин, законов, принципов, постулатов	12–14	12–14	–
Требования 2.1–2.4 Уметь описывать и объяснять физические явления и свойства тел, результаты экспериментов ... приводить примеры практического использования физических знаний	9–12	9–12	–
Требование 2.5 Отличать гипотезы от научной теории, делать выводы на основе эксперимента и т. д.	2	2	–
Требование 2.6 Уметь применять полученные знания при решении физических задач	8	–	8
Требования 3.1–3.2 Использовать приобретенные знания и умения в практической деятельности и повседневной жизни	0–1	0–1	–
Итого	32	24	8

6. Распределение заданий КИМ по уровню сложности

В экзаменационной работе представлены задания разных уровней сложности: базового, повышенного и высокого.

Задания базового уровня включены в часть 1 работы (19 заданий, из которых 9 заданий с выбором и записью номера правильного ответа и 10 заданий с кратким ответом). Это простые задания, проверяющие усвоение наиболее важных физических понятий, моделей, явлений и законов.

Задания повышенного уровня распределены между первой и второй частями экзаменационной работы: 5 заданий с кратким ответом в части 1, 3 задания с кратким ответом и 1 задание с развернутым ответом в части 2. Эти задания направлены на проверку умения использовать понятия и законы физики для

анализа различных процессов и явлений, а также умения решать задачи на применение одного-двух законов (формул) по какой-либо из тем школьного курса физики.

4 задания части 2 являются заданиями высокого уровня сложности и проверяют умение использовать законы и теории физики в измененной или новой ситуации. Выполнение таких заданий требует применения знаний сразу из двух-трех разделов физики, т. е. высокого уровня подготовки. Включение в часть 2 работы сложных заданий разной трудности позволяет дифференцировать учащихся при отборе в вузы с различными требованиями к уровню подготовки.

В таблице 4 представлено распределение заданий по уровню сложности.

Таблица 4. Распределение заданий по уровню сложности

Уровень сложности заданий	Количество заданий	Максимальный первичный балл	Процент максимального первичного балла за задания данного уровня сложности от максимального первичного балла за всю работу, равного 50
Базовый	19	22	44
Повышенный	9	16	32
Высокий	4	12	24
Итого	32	50	100

7. Система оценивания выполнения отдельных заданий и экзаменационной работы в целом

Задание с выбором и записью номера правильного ответа считается выполненным, если записанный в бланке № 1 номер ответа совпадает с верным ответом. Каждое из таких заданий оценивается 1 баллом.

Задание с кратким ответом считается выполненным, если записанный в бланке № 1 ответ совпадает с верным ответом.

Задания 3–5, 10, 15, 16, 21 части 1 и задания 25–27 части 2 оцениваются 1 баллом.

Задания 6, 7, 11, 12, 17, 18, 22 и 24 части 1 оцениваются 2 баллами, если верно указаны оба элемента ответа; 1 баллом, если допущена ошибка в указании одного из элементов ответа, и 0 баллов, если допущено две ошибки.

Ответы на задания с выбором и записью номера правильного ответа и кратким ответом обрабатываются автоматически после сканирования бланков ответов № 1.

Задание с развернутым ответом оценивается двумя экспертами с учетом правильности и полноты ответа. Максимальный первичный балл за задания с развернутым ответом составляет 3 балла. К каждому заданию приводится подробная инструкция для экспертов, в которой указывается, за что выставляется каждый балл – от нуля до максимального балла. В экзаменационном варианте перед каждым типом задания предлагается инструкция, в которой приведены общие требования к оформлению ответов.

В соответствии с Порядком проведения единого государственного экзамена, утвержденным приказом Минобрнауки России (п. 53) «баллы за ответы

участника ЕГЭ на задания экзаменационной работы с развернутым ответом определяются, исходя из следующих положений:

- если баллы двух экспертов совпали, то полученный балл является окончательным;
- если установлено несущественное расхождение в баллах, выставленных двумя экспертами, то окончательный балл определяется как среднее арифметическое баллов двух экспертов с округлением в большую сторону;
- если установлено существенное расхождение в баллах, выставленных двумя экспертами, то назначается проверка ответа участника ЕГЭ... третьим экспертом».

Существенным считается расхождение в **2 и более** балла оценки за выполнение любого задания.

Максимальный первичный балл – 50. Баллы для поступления в вузы подсчитываются по 100-балльной шкале на основе анализа результатов выполнения всех заданий экзаменационной работы.

8. Продолжительность ЕГЭ по физике

На выполнение всей экзаменационной работы отводится 235 минут.

Примерное время на выполнение заданий различных частей работы составляет:

- 1) для каждого задания с выбором ответа – 2–5 минут;
- 2) для каждого задания с кратким ответом – 3–5 минут;
- 3) для каждого задания с развернутым ответом – от 15 до 25 минут.

9. Дополнительные материалы и оборудование

Используется непрограммируемый калькулятор (на каждого ученика) с возможностью вычисления тригонометрических функций (cos, sin, tg) и линейка.

Перечень дополнительных устройств и материалов, использование которых разрешено на ЕГЭ, утверждается Рособнадзором.

10. Изменения в КИМ ЕГЭ в 2015 году по сравнению с 2014 годом

Изменена структура варианта КИМ: каждый вариант состоит из двух частей (все задания с выбором ответа и с кратким ответом (не считая расчетных задач) объединены в одну часть работы в связи с изменением формы бланка ответов № 1). Задания в варианте представлены в режиме сквозной нумерации без буквенных обозначений А, В, С.

По сравнению с КИМ ЕГЭ 2014 г. количество заданий сокращено с 35 до 32. При этом на 2 задания уменьшено число расчетных задач, входящих в часть 2 работы, и на 1 задание уменьшено количество заданий базового уровня по электродинамике.

Изменена форма записи ответа на каждое из заданий 1, 2, 8, 9, 13, 14, 19, 20 и 23: в КИМ 2015 г. требуется записывать цифру, соответствующую номеру правильного ответа.

Обобщенный план варианта КИМ ЕГЭ 2015 года по ФИЗИКЕ

Уровни сложности задания: Б – базовый (примерный уровень выполнения – 60–90%); П – повышенный (40–60%); В – высокий (менее 40%).

Обозначение задания в работе	Проверяемые элементы содержания	Коды элементов содержания по кодификатору элементов содержания	Коды проверяемых умений	Уровень сложности задания	Максимальный балл за выполнение задания
Часть 1					
1	Скорость, ускорение, равномерное прямолинейное движение, равноускоренное прямолинейное движение, <i>(сrafики)</i>	1.1.3–1.1.6	1, 2.1–2.4	Б	1
2	Принцип суперпозиции сил, законы Ньютона	1.2.1, 1.2.3–1.2.5	1, 2.1–2.4	Б	1
3	Закон всемирного тяготения, закон Гука, сила трения	1.2.6, 1.2.8, 1.2.9	1, 2.1–2.4	Б	1
4	Закон сохранения импульса, кинетическая и потенциальные энергии, работа и мощность силы, закон сохранения механической энергии	1.4.1–1.4.8	1, 2.1–2.4	Б	1
5	Условие равновесия твердого тела, сила Архимеда, давление, математический и пружинный маятники, механические волны, звук	1.3.2, 1.3.5 1.5.2, 1.5.4, 1.5.5	1, 2.1–2.4	Б	1
6	Механика <i>(изменение физических величин в процессах)</i>	1.1–1.5	2.1	Б, П	2
7	Механика <i>(установление соответствия между графиками и физическими величинами; между физическими величинами и формулами, единицами измерения)</i>	1.1–1.5	1, 2.4	П, Б	2
8	Модели строения газов, жидкостей и твердых тел. Диффузия, броуновское движение, модель идеального газа. Изменение агрегатных состояний вещества, тепловое равновесие, теплопередача <i>(объяснение явлений)</i>	2.1.1–2.1.5, 2.1.15–2.1.17, 2.2.1, 2.2.3	1, 2.1–2.4	Б	1
9	Изопроцессы, работа в термодинамике, первый закон термодинамики	2.1.12, 2.2.6 2.2.7	1, 2.1–2.4	Б	1
10	Относительная влажность воздуха, количество теплоты, КПД тепловой машины	2.1.14, 2.2.4, 2.2.5, 2.2.9, 2.2.10	1, 2.1–2.4	Б	1
11	МКТ, термодинамика <i>(изменение физических величин в процессах)</i>	2.1, 2.2	2.1	Б, П	2

12	МКТ, термодинамика (установление соответствия между графиками и физическими величинами; между физическими величинами и формулами, единицами измерения)	2.1, 2.2	1, 2.4	П, Б	2
13	Электризация тел, проводники и диэлектрики в электрическом поле, явление электромагнитной индукции, интерференция света, дифракция и дисперсия света (объяснение явлений)	3.1.1, 3.1.7, 3.1.8, 3.4.2, 3.6.10–3.6.12	2.1–2.4	Б	1
14	Принцип суперпозиции электрических полей, магнитное поле проводника с током, сила Ампера, сила Лоренца, правило Ленца (определение направления)	3.1.5, 3.3.1, 3.3.2–3.3.4, 3.4.5	1, 2.1–2.4	Б	1
15	Закон Кулона, закон Ома для участка цепи, последовательное и параллельное соединение проводников, работа и мощность тока, закон Джоуля – Ленца	3.1.2, 3.2.3, 3.2.4, 3.2.7–3.2.9	1, 2.1–2.4	Б	1
16	Закон электромагнитной индукции Фарадея, колебательный контур, законы отражения и преломления света, ход лучей в линзе	3.4.3, 3.5.1, 3.6.2, 3.6.3, 3.6.4, 3.6.6–3.6.8	1, 2.1–2.4	Б	1
17	Электродинамика (изменение физических величин в процессах)	3.1–3.6	2.1	Б, П	2
18	Электродинамика (установление соответствия между графиками и физическими величинами; между физическими величинами и единицами измерения, формулами)	3.1–3.6	1, 2.4	П, Б	2
19	Инвариантность скорости света в вакууме. Планетарная модель атома. Нуклонная модель ядра. Изотопы	4.1 5.2.1, 5.3.1	1.1	Б	1
20	Радиоактивность. Ядерные реакции. Деление и синтез ядер	5.3.4, 5.3.6	2.1	Б	1
21	Фотоны, закон радиоактивного распада	5.1.2, 5.3.5	2.1	Б	1
22	Квантовая физика (изменение физических величин в процессах, установление соответствия между физическими величинами и единицами измерения, формулами, графиками)	5.1–5.3	2.1 2.4	П	2
23	Механика – квантовая физика (методы научного познания: измерения с учетом абсолютной погрешности, выбор установки для проведения опыта по заданной гипотезе, построение графика по заданным точкам с учетом абсолютных погрешностей измерений)	1.1–5.3	2.5	Б	1
24	Механика – квантовая физика (методы научного познания: интерпретация результатов опытов)	1.1–5.3	2.5	П	2

Часть 2					
25	Механика, молекулярная физика (расчетная задача)	1.1–1.5 2.1, 2.2	2.6	П	1
26	Молекулярная физика, электродинамика (расчетная задача)	2.1, 2.2 3.1–3.6	2.6	П	1
27	Электродинамика, квантовая физика (расчетная задача)	3.1–3.6 5.1–5.3	2.6	П	1
28	Механика – квантовая физика (качественная задача)	1.1–5.3	2.6, 3	П	3
29	Механика (расчетная задача)	1.1–1.5	2.6	В	3
30	Молекулярная физика (расчетная задача)	2.1, 2.2	2.6	В	3
31	Электродинамика (расчетная задача)	3.1–3.6	2.6	В	3
32	Электродинамика, квантовая физика (расчетная задача)	3.1–3.6 5.1–5.3	2.6	В	3
Всего заданий – 32 ; из них по уровню сложности: Б – 19 ; П – 9 ; В – 4 . Максимальный первичный балл за работу – 50 . Общее время выполнения работы – 235 минн.					